



## Lembar Kerja Peserta Didik

# BAGIAN- BAGIAN DAN MACAM-MACAM GARIS

Nama: .....

Kelas : .....

### Tujuan:



1. Dengan mengamati gambar, peserta didik dapat mengenali bagian-bagian garis dengan benar.
2. Dengan mengamati gambar, peserta didik dapat mengenali macam-macam garis dengan benar.

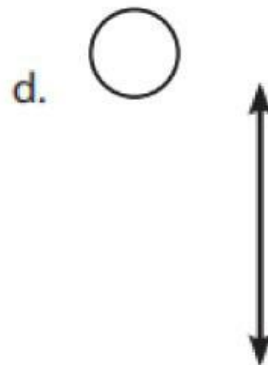
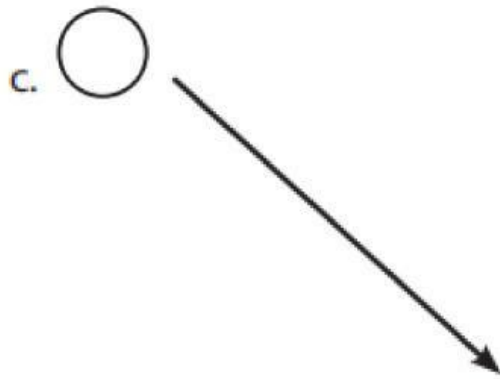

### Petunjuk:



1. Amati gambar dengan seksama.
2. Jawablah pertanyaan sesuai dengan perintah soal.
3. Bekerjalah secara teliti agar kamu dapat menjawab pertanyaan mengenai bagian dan macam-macam garis.

1

Berilah tanda ✓ pada gambar yang merupakan garis lurus dan tanda ✗ yang bukan garis lurus!



2

Berilah nama pada jenis garis berikut!



3

Sebutkan 5 contoh benda di sekitarmu yang berbentuk garis lurus!

-----

-----

-----

-----

-----

-----