



# LEMBAR KERJA PESERTA DIDIK LKPD



## Pecahan

Oleh:

**Sri Putri Gumala Dewi**  
**21129123**

**Penyusun** : Sri Putri Gumala Dewi  
**Instansi** : SDN 20 Pasar Tiku  
**Tahun Penyusunan** : Tahun 2023  
**Jenjang Sekolah** : SD  
**Mata Pelajaran.** : Matematika  
**Fase / Kelas.** : B / 3  
**Topik** : Bilangan  
**Materi Pokok** : Pecahan  
**Alokasi Waktu** : 2 x 35 menit



**NAMA KELOMPOK :**

- 1.
- 2.
- 3.
- 4.
- 5.

**KELAS:**

**Tujuan Pembelajaran:**

1. Menentukan pecahan sederhana dari gambar
2. Menganalisis beberapa gambar dari pecahan sederhana dengan memberi arsir pada gambar tersebut
3. Membuat gambar dari nilai pecahan sederhana dengan benar

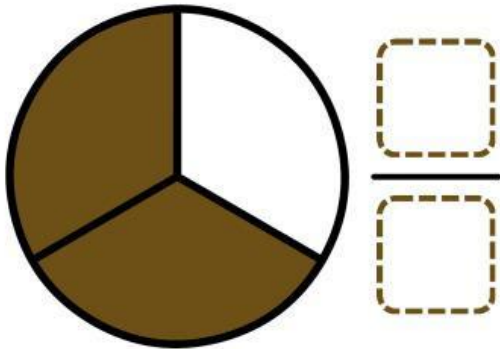
**Petunjuk pengerjaan**

1. Berdoa sebelum mengerjakan lkpd
2. Tulis nama anggota kelompok
3. Baca pertanyaan dengan teliti
4. Jawab pertanyaan dengan benar
5. Kerjakan sesuai langkah-langkahnya
6. Selamat mengerjakan

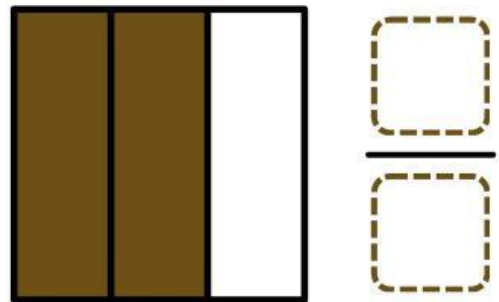


1. Tentukan nilai pecahan dari gambar dibawah ini.  
Tulis nilai pecahan pada kotak yang telah disediakan.

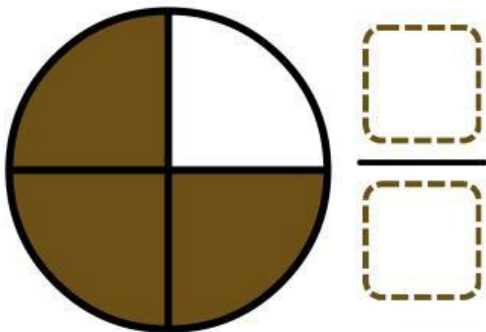
1.



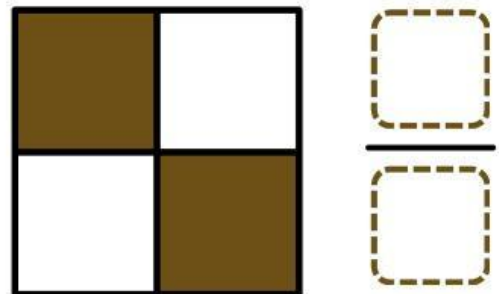
2.



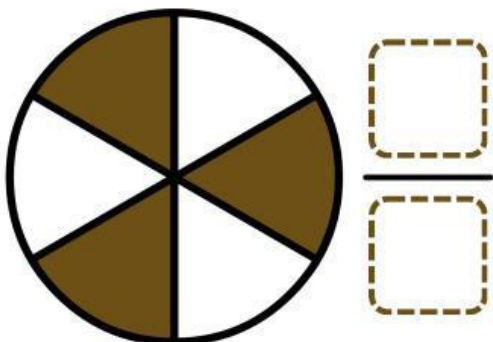
3.



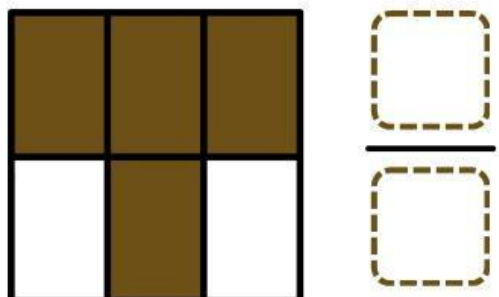
4.



5.



6.

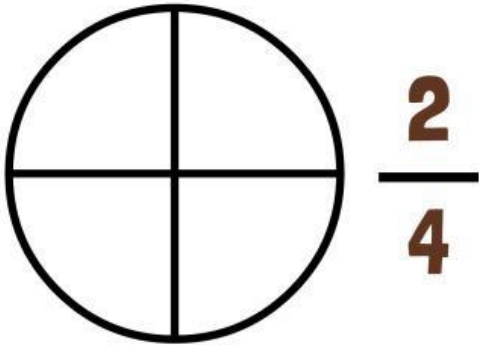







2. Warnai pecahan pada gambar yang disediakan, sesuai dengan nilai pecahan yang ada.


1.




2.



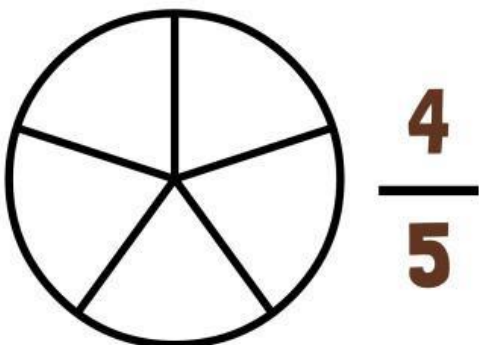
3.



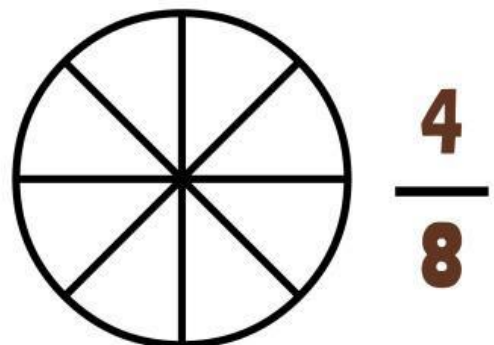
4.



5.



6.



3. Buatlah gambar lingkaran/persegi berdasarkan pecahan tersebut dalam tabel berikut.

Pecahan	Gambar Sketsa Persegi Arsir
$\frac{3}{4}$	
$\frac{2}{5}$	
$\frac{3}{6}$	