

[CONTOH MASTER] LEMBAR KERJA PESERTA DIDIK

Materi Ajar : Nama Materi Ajar (Elemen)
Mata pelajaran : Mata Pelajaran
Kelas :
Nama anggota kelompok :

1. 2.
3. 4.

A. Standar Kerja

Dikerjakan selesai tepat waktu dan tidak lebih dari yang ditetapkan.

B. Perangkat yang dibutuhkan :

- a. Komputer/HP
- b.
- c. dst

C. Tugas dan Instruksi Kerja :

1. Silahkan duduk sesuai dengan kelompok masing-masing.
2. Silahkan berperan aktif dalam kelompok
3. Silahkan beri tanggapan ketika kelompok yang lain presentasi
4. Silahkan tanya teman kelompok atau guru ketika menemukan ketidakpahaman.


Temukan tulisan angka dalam kotak berikut:

S	A	T	U	E
X	K	I	Z	M
C	O	G	T	P
Y	L	A	D	A
J	M	N	U	T
L	I	M	A	X

Kegiatan Menyimak dan Diskusi

YOUTUBE PLAYER

➤ Menyimak dari Video:



Berdasarkan video tersebut, silahkan berdiskusi untuk menentukan solusi terbaik dari permasalahan yang ada pada video tersebut, untuk menambah wawasan terkait solusi, kalian juga dapat menggali informasi lebih jauh dari link berikut ini: Buku Ajar Pusbuk SIBI - Sistem Informasi Perbukuan Indonesia (kemdikbud.go.id). Setelah itu silahkan kalian tuliskan solusinya di bawah ini:

TEXTFIELD

Solusi:

PLAY MP3

➤ Menyimak Dari Audio

Silahkan kalian dengarkan cerita berikut ini, kemudian kalian diskusikan untuk menentukan kalimat utama dari cerita tersebut:

MP3

CHECKBOXS

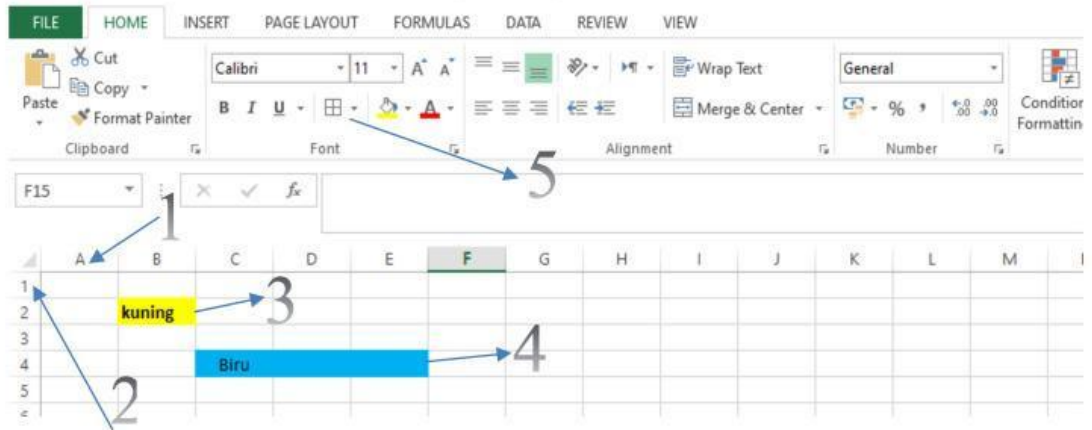
Berdasarkan cerita yang kalian dengarkan, siapa saja tokoh yang terlibat:

Budi Nia Wati Ali Iwan

- Coba kalian amati gambar berikut ini, kemudian kalian berkolaborasi mencari informasi dengan teman kelompok untuk mengisi tabel yang berada dibawah gambar!

LINK

- Sebagai rujukan kalian bisa buka link berikut ini:
<https://www.kelasexcel.id/2014/09/pengertian-row-column-cell-dan-range-excel.html> atau kalian boleh menggunakan rujukan dari link atau sumber belajar lainnya!







TEXTFIELD

No	Penjelasan/Fungsi
1	
2	
3	
4	
5	
Tulisan kuning	Berada di kolom?, baris ke, Cell

JOIN

➤ **Mencocokkan jawaban/solusi:**

Coba diskusikan pasangan urutan proses metamorfosis yang tepat, lalu hubungkan sesuai dengan urutannya

		1
		2
		3
		4

SPEAK

Ucapkan Bilangan berikut ini: 35



LISTENING



Dengarkan, lalu tuliskan apa yang terdengar

SINGLE CHOICE

➤ **Memilih satu jawaban yang tepat**

Manakah titik (x,y) berikut yang berada pada kuadran III?

(1,2) (1,-2) (-1,2) (-1,-2)

➤ **DRAG and DROP**

Tempelkan Tulisan di sebelah kanan pada gambar yang sesuai!



Telur



Kepompong

Mengetahui,
Kepala Sekolah

Nama Kepala Sekolah
NIP.

Kalimantan, Desember 2023

Guru Mata Pelajaran

Nama Guru Mapel
NIP.