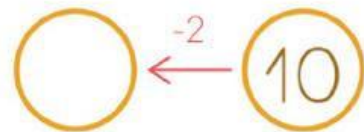
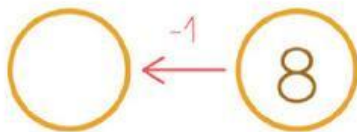
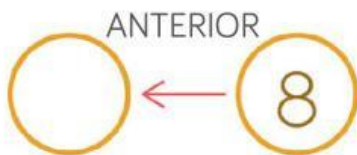



1. Completa.



2. COMPLETA Y RESTA.



$$4 - 1 = \dots\dots\dots$$




$$7 - \dots\dots\dots = \dots\dots\dots$$

FECHA:



3. RESTA PARA RESPONDER LAS PREGUNTAS.

- A) **PRIMERO**, HAY 6 GALLINAS.
DESPUÉS, 1 DE ELLAS SE VA.
¿CUÁNTAS GALLINAS QUEDAN **AL FINAL**?



$$6 - 1 = \underline{\hspace{2cm}}$$

- B) **PRIMERO**, HAY 5 PÁJAROS EN EL ÁRBOL.
DESPUÉS, 2 DE ELLOS SE VAN VOLANDO.
¿CUÁNTOS PÁJAROS QUEDAN **AL FINAL**?



$$5 - 2 = \underline{\hspace{2cm}}$$

4. RESTA.

$$5 - 1 = \underline{\hspace{2cm}}$$

$$9 - 2 = \underline{\hspace{2cm}}$$

PARA RESTAR 1,
¡PIENSO EN EL
ANTERIOR!

