



PEMERINTAH KABUPATEN BELITUNG
DINAS PENDIDIKAN DAN KEBUDAYAAN
SMP NEGERI 1 SELAT NASIK

Alamat : Jl. Abdullah No. 2 Selat Nasik



Lembar Kerja Peserta Didik Kesebangunan dan Kekongruenan

Nama :

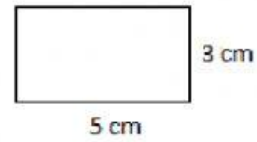
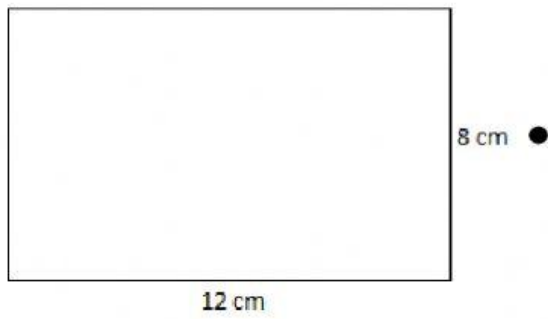
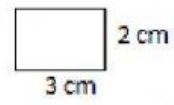
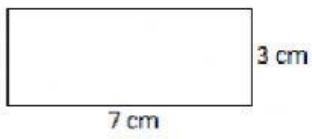
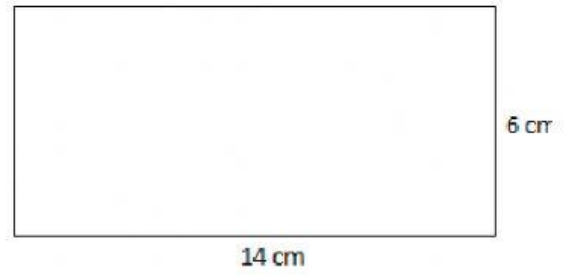
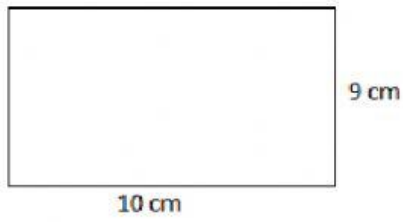
Kelas :

A. Pilihlah jawaban yang benar dari pertanyaan di bawah ini

1. Dua buah bangun datar dikatakan sebangun jika...
 - a. Bentuknya sama, ukurannya sama
 - b. Bentuknya sama, ukurannya berbeda
 - c. Bentuknya berbeda, ukurannya sama
 - d. Bentuknya berbeda, ukurannya berbeda

2. Dua buah bangun datar dikatakan kongruen jika...
 - a. Bentuknya sama, ukurannya sama
 - b. Bentuknya sama, ukurannya berbeda
 - c. Bentuknya berbeda, ukurannya sama
 - d. Bentuknya berbeda, ukurannya berbeda

B. Jodohkanlah bangun di bawah ini agar menjadi pasangan yang sebangun



C. Letakkanlah nama-nama sudut di bawah ini di tempat yang disediakan agar segitiga tersebut kongruen.

A

B

C

