

Lembar Kerja Peserta Didik (LKPD) 1


Nama :
Kelompok :
Kelas :
Hari/Tanggal :

Petunjuk Mengerjakan!

1. Buatlah kelompok dan Nama pada kolom pojok kiri atas!
2. Hitunglah jumlah kubus berikut ini!
3. Kerjakan dengan jujur dan teliti!
4. Setelah selesai kirimlah pekerjaanmu kepada gurumu




1.



+





=




Banyaknya kubus ada.....

Dibaca.....


2.



+





=




Banyaknya kubus ada.....

Dibaca.....


3.



+



=



Banyaknya kubus ada.....

Dibaca.....

