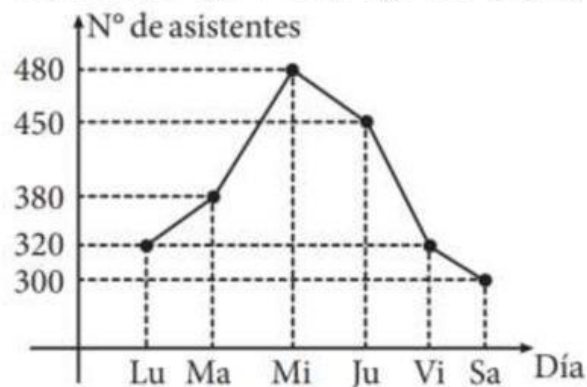


Nombre y Apellido: _____

HISTOGRAMAS Y POLIGONOS DE FRECUENCIA

¡Completamos!

1. El gráfico adjunto muestra la asistencia durante la semana de los alumnos de una academia de estudio. Responde las siguientes preguntas. (6 pts.)



- ¿Cuál es la diferencia de la cantidad de alumnos entre los días de mayor y menos asistencia?

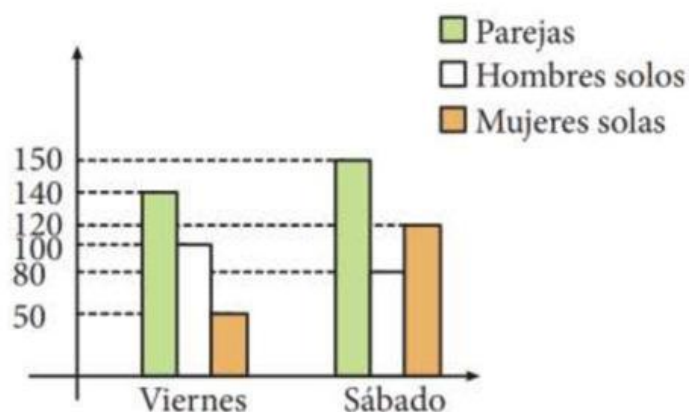
- En promedio, ¿Cuántos alumnos asisten diariamente?

- ¿Cuál es la variación de la cantidad de alumnos del día viernes respecto al día martes?

Nombre y Apellido: _____

¡Completamos!

2. El siguiente grafico representa la asistencia de personas al cine. Responde las siguientes preguntas. (4 pts.)

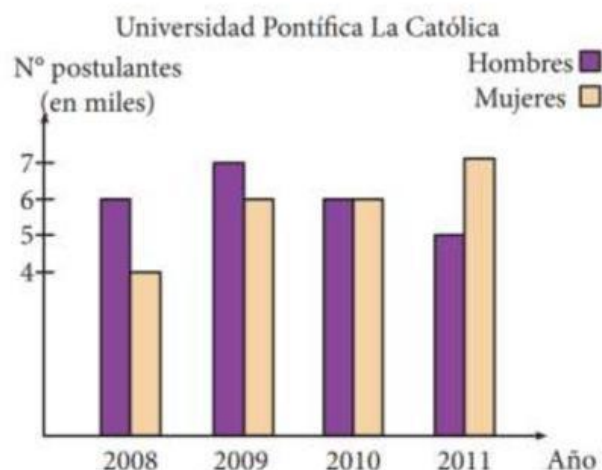


- ¿Cuántas personas asistieron todo el día viernes?

- ¿Cuántas mujeres más asistieron el día sábado respecto al día viernes?

¡Completamos!

3. Del siguiente grafico que representa la cantidad de postulantes de miles a la PUCP en algunos determinados años. Responde las siguientes preguntas. (4 pts.)

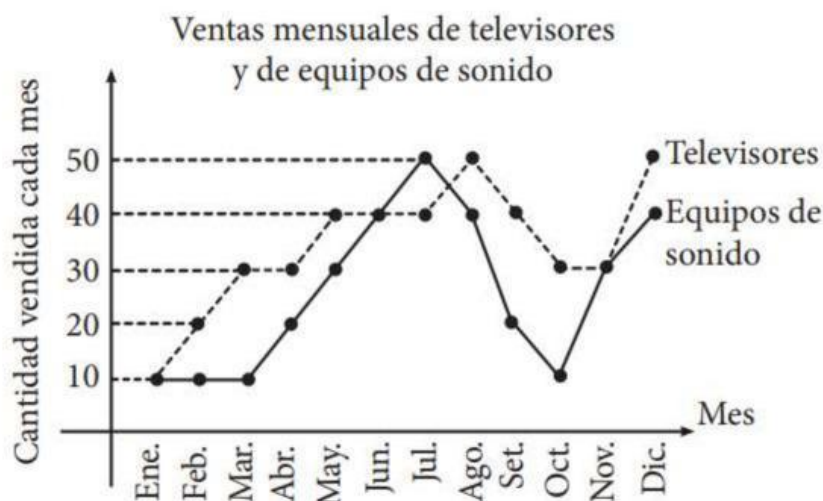


Nombre y Apellido: _____

- ¿En cuánto aumento la cantidad de postulantes en el año 2009, respecto al año anterior?
- ¿En qué porcentaje aumentó el número de postulantes mujeres en el año 2011, respecto al año 2008?

¡Completamos!

4. En el siguiente grafico representa las ventas mensuales de televisores y de equipos de sonido. (6 pts.)



- ¿Cuántos equipos de sonido vendieron durante todo el año?
- ¿Cuántos televisores se vendieron en el primer semestre?
- ¿En qué mes se vendieron más equipos de sonido?