

## 2 Prueba de control

Nombre \_\_\_\_\_ Fecha \_\_\_\_\_

**1** ¿Qué es el clima? Completa.

El clima se define como las características de las \_\_\_\_\_ y las \_\_\_\_\_ que se suelen dar en un lugar a lo largo de muchos \_\_\_\_\_.

**2** ¿Qué dos elementos definen el clima de un lugar? Indica cuáles son.

\_\_\_\_\_

**3** Indica los factores que influyen en el clima. Completa

La distancia al \_\_\_\_\_.

La proximidad al \_\_\_\_\_.

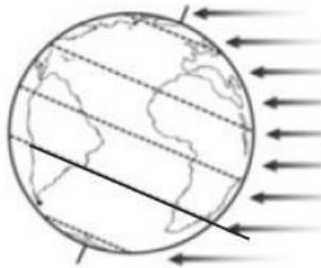
La influencia del \_\_\_\_\_.

**4** Une con flechas

Zona templada

Zona cálida

Zona fría



Zona templada

Zona fría

Zona cálida

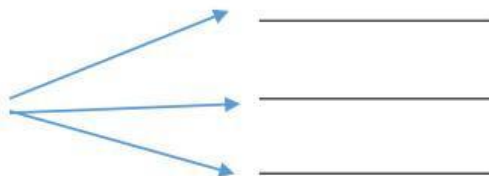
**5** Enumera los tipos de climas que hay en España y sus variantes.

Clima \_\_\_\_\_

Clima \_\_\_\_\_

Clima \_\_\_\_\_

Clima \_\_\_\_\_



- 6** Escribe, en cada caso, V, si es verdadero, o F, si es falso.  
Después, escribe correctamente las afirmaciones erróneas.

- ☐ En el clima mediterráneo típico, los inviernos son muy fríos y los veranos, calurosos.
- ☐ En las montañas, la vegetación cambia con la altitud y la orientación.
- ☐ En las zonas de clima subtropical seco, las temperaturas son muy altas todo el año.

---

---

---

- 7** ¿Cómo se distribuye la vegetación en el clima de montaña? Describe.

Zona de altitud\_\_\_\_\_ la vegetación es

Zonas bajas la vegetación es:

En las\_\_\_\_\_

- 8** Indica el tipo de clima que se representa en cada mapa.



---

---

---

**9 Observa este climograma y responde.**

- ¿Cómo son las temperaturas en verano?

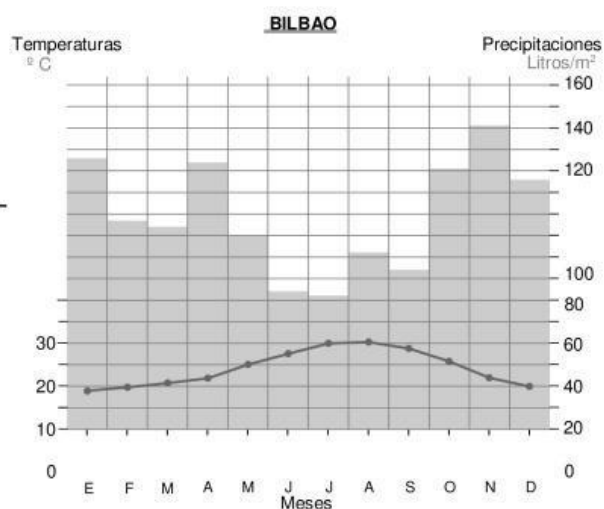
¿Y en invierno? \_\_\_\_\_

- ¿En qué estaciones llueve más?

- ¿Hay alguna estación seca? ¿Cuál?

- ¿Qué tipo de clima puede ser?

- ¿Por qué?



**10 Escribe en qué tipo de clima se da esta vegetación.**

- Laurisilva: \_\_\_\_\_
- Hayas: \_\_\_\_\_
- Maquia: \_\_\_\_\_

