


Complete el gráfico arrastrando el triple de cada número



60

24

27

45

30

Resuelva el siguiente problema, marque la respuesta correcta.

Sofía tiene 5 años y Roberto el triple.
¿Cuántos años tiene Roberto?

25

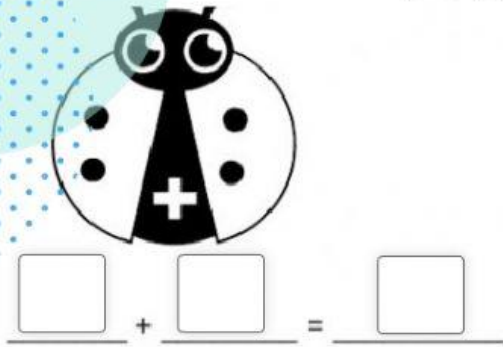
12

15

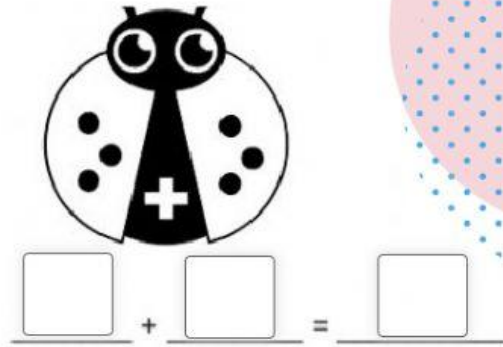
11



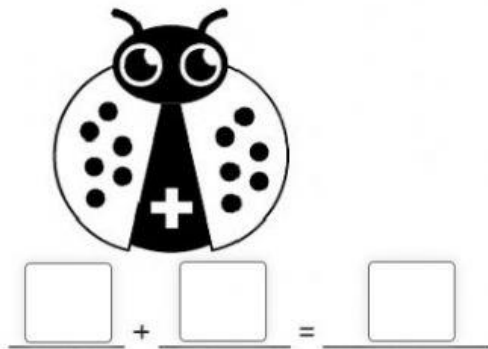
DOBLES




El doble de 2 es :



El doble de 3 es :



El doble de 2 es :



El doble de 2 es :

MULTIPLIQUE

	8	5	3	
x			7	
<hr/>				

	7	9	2	
x			6	
<hr/>				

	4	5	8	
x			4	
<hr/>				

Aplique la propiedad de la multiplicación

