



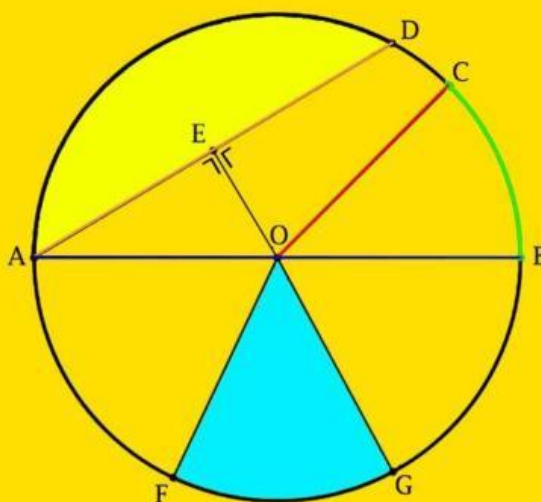
PERKUMPULAN DHARMAPUTRI  
SEKOLAH DASAR KATOLIK MATER DEI

Jln. Suroyo, No. 36 Probolinggo 67211 Telp/Fax. 0335 – 422631 Website:  
[www.sdkmaterdei.sch.id](http://www.sdkmaterdei.sch.id) e-mail: [materdeisdsk@yahoo.com](mailto:materdeisdsk@yahoo.com)

NAMA : .....

KELAS/ NO : ...../ .....

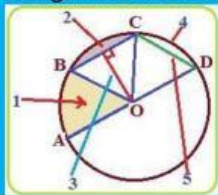
## UNSUR LINGKARAN



SIMAK VIDEO BERIKUT INI!

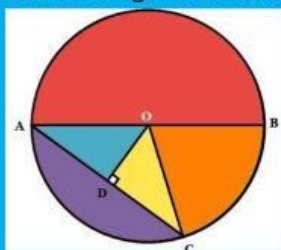


1. Pada gambar berikut, nomor 1 disebut ... .



- a)juring
- b)tembereng
- c)busur
- d)tali busur

2. Perhatikan gambar berikut



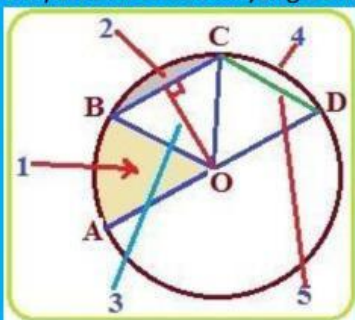
Garis AC pada gambar lingkaran di atas disebut ...

- a) jari-jari  
b) diameter  
c) tali busur  
d) busur

3. Garis lurus yang menghubungkan dua titik pada lengkungan lingkaran dan melalui titik pusat disebut ...

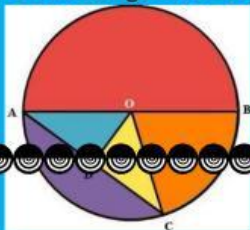
- a) Jari-jari
- b) Titik Pusat
- c) Garis Lengkung
- d) Diameter

4. Pernyataan berikut ini yang benar sesuai dengan gambar adalah ... . (pilih lebih dari satu)



- a) Tali Busur ditunjukkan oleh nomor 5
- b) Juring ditunjukkan oleh nomor 4
- c) Tembereng ditunjukkan oleh nomor 2
- d) Jari-jari ditunjukkan oleh nomor 1
- e) Apotema ditunjukkan oleh nomer 3

5. Perhatikan gambar berikut

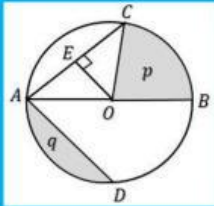




Titik pusat pada lingkaran tersebut adalah titik ....

- a) O
- b) A
- c) C
- d) D

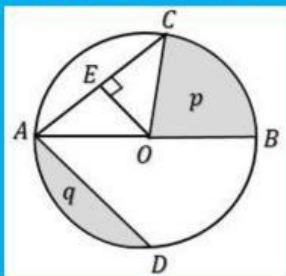
6. Perhatikan gambar berikut !



Diameter pada lingkaran tersebut ditunjukkan oleh garis

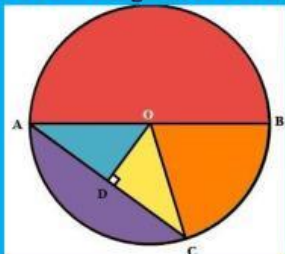
- a) AD
- b) OC
- c) EO
- d) AB

7. Garis EO pada gambar lingkaran berikut adalah ...



- a) jari-jari
- b) Apotema
- c) diameter
- d) busur

8. Perhatikan gambar berikut !

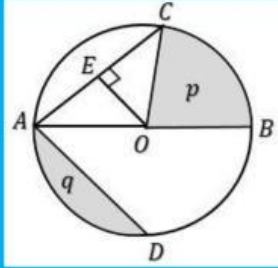


Selain garis lengkung BC, busur lingkaran pada gambar tersebut adalah ...

- a) Garis lurus AC
- b) Garis lengkung AB
- c) Garis lurus AB

d) Garis lurus OD

9. Perhatikan gambar tersebut !



Pernyataan berikut yang benar adalah ...

- a) Daerah p merupakan tembereng
- b) Daerah q merupakan tembereng
- c) Garis AC merupakan busur
- d) Garis lengkung BD merupakan juring

10. Gambar berikut ini yang menunjukkan juring adalah ....

