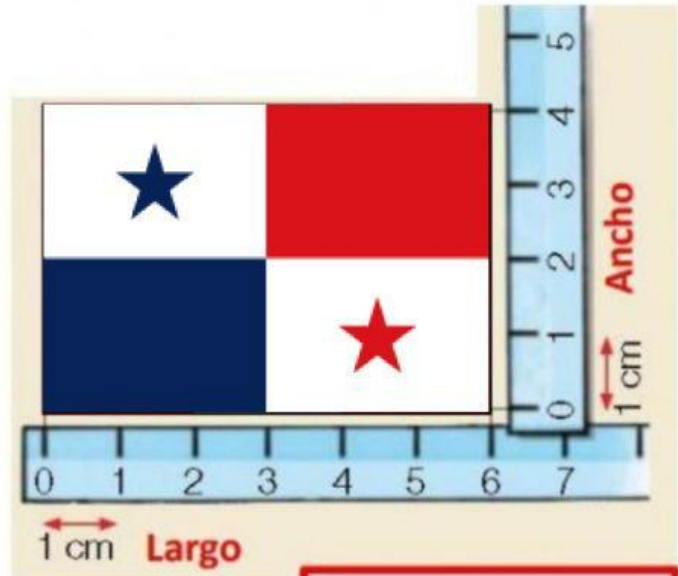
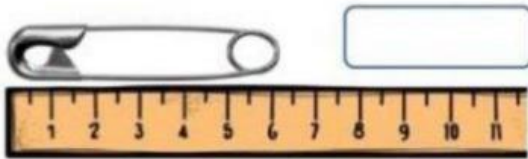
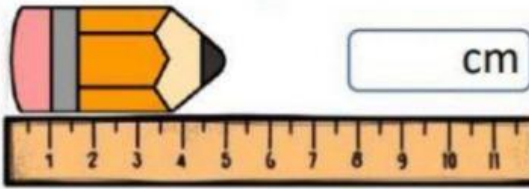


Medidas de Longitud

Observa la regla y escribe cuantos centímetros mide cada objeto.



Largo: _____ cm

Ancho: _____ cm

Selecciona la unidad de medida que debemos utilizar para medir los siguientes objetos.



Escribe cuanto miden estos objetos

