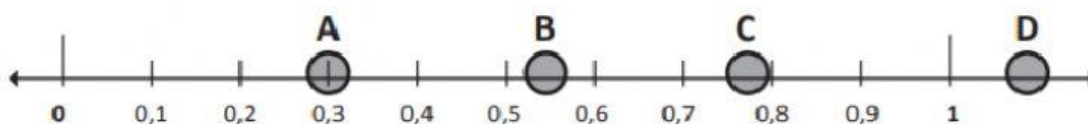




Decimales en la recta numérica

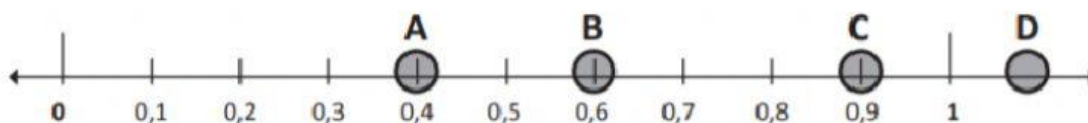
Lee y observa. Escribe la respuesta en el ☐ correspondiente



¿Qué letra representa mejor la ubicación de 0,3 en la recta numérica?

☐

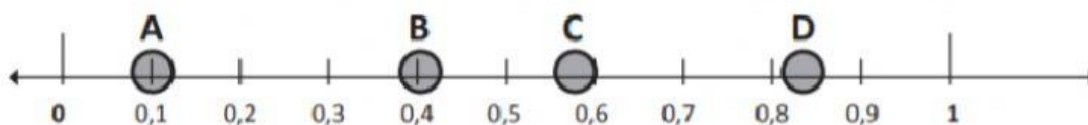
¿Qué letra representa mejor la ubicación de 0,55 en la recta numérica?

☐


¿Qué letra representa mejor la ubicación de 0,9 en la recta numérica?

☐

¿Qué letra representa mejor la ubicación de 0,4 en la recta numérica?

☐


¿Qué letra representa mejor la ubicación de 0,1 en la recta numérica?

☐

¿Qué letra representa mejor la ubicación de 0,84 en la recta numérica?

☐
