

lembar kerja peserta didik 1

Nama: _____

Pelajaran: _____

Kelas: _____

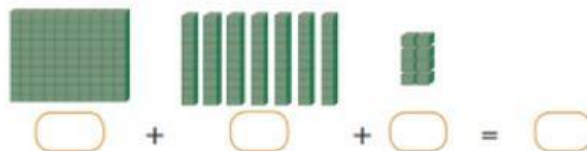
Tanggal: _____

petunjuk;

1. ingat lah kembali pembelajaran yang telah di jelaskan guru mu
2. perhatikan dan bacalah pertanyaan dan gambar yang telah di berikan
3. setelah diamati maka cobalah secara berlahan untuk menuliskan di dalam kotak di bawah gambar.
4. Setelah diisi maka coba gabungkan jawaban nya.

Hitunglah jumlah kubus berikut ini!

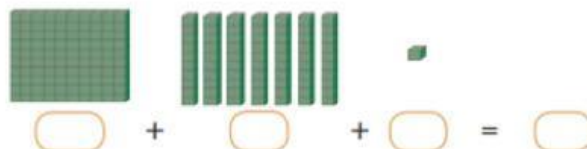
1.



Banyaknya kubus ada

Dibaca

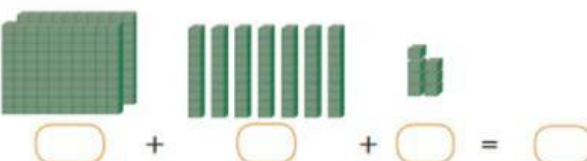
2.



Banyaknya kubus ada

Dibaca

3.



Banyaknya kubus ada

Dibaca

lembar kerja peserta didik 2

Nama: _____

Pelajaran: _____

Kelas: _____

Tanggal: _____


petunjuk;

1. ingat lah kembali pembelajaran yang telah di jelaskan guru mu
2. perhatikan dan bacalah pertanyaan dan gambar yang telah di berikan
3. setelah diamati maka cobalah secara berlahan untuk menuliskan di dalam kotak di bawah gambar.
4. Setelah diisi maka coba gabungkan jawaban nya.




$$200 + 30 + 2 = 232$$

232 dibaca dua ratus tiga puluh dua.



+ + =

dibaca



+ + =

dibaca

lembar kerja peserta didik 4

Nama: _____

Pelajaran: _____

Kelas: _____

Tanggal: _____

petunjuk;

- ingat lah kembali pembelajaran yang telah di jelaskan guru mu
- perhatikan dan bacalah pertanyaan dan gambar yang telah di berikan
- setelah diamati maka cobalah secara berlahan untuk menuliskan lambang bilangan

Tuliskan lambang bilangan berikut dengan kata-kata!

1. 675 = _____
2. 565 = _____
3. 875 = _____
4. 345 = _____
5. 985 = _____