

Nombre y Apellido: _____

Sumas de Fracciones con Gráficos

¡Comparamos!

1. Realiza las siguientes sumas de fracciones, escribiendo el resultado de cada una de las operaciones. (8 pts.)

$\frac{1}{4} + \frac{2}{4} =$

$\frac{2}{8} + \frac{3}{8} =$

$\frac{1}{8} + \frac{2}{8} =$

$\frac{1}{4} + \frac{1}{4} =$

$\frac{3}{6} + \frac{1}{6} =$

$\frac{1}{3} + \frac{1}{3} =$

























$\frac{1}{4} + \frac{2}{4} =$

$\frac{2}{8} + \frac{3}{8} =$

Nombre y Apellido: _____

¡Completamos!

2. Completa los siguientes gráficos (12 pts.)

1.		=		<input type="text"/>	=	<input type="text"/>	7.		=		<input type="text"/>	=	<input type="text"/>
2.		=		<input type="text"/>	=	<input type="text"/>	8.		=		<input type="text"/>	=	<input type="text"/>
3.		=		<input type="text"/>	=	<input type="text"/>	9.		=		<input type="text"/>	=	<input type="text"/>
4.		=		<input type="text"/>	=	<input type="text"/>	10.		=		<input type="text"/>	=	<input type="text"/>
5.		=		<input type="text"/>	=	<input type="text"/>	11.		=		<input type="text"/>	=	<input type="text"/>
6.		=		<input type="text"/>	=	<input type="text"/>	12.		=		<input type="text"/>	=	<input type="text"/>