

# Konsep Pembagian

Anak-anak sholih sholihah, simak video pembelajaran di bawah ini ya!

Coba kalian klik kotak di bawah ini!



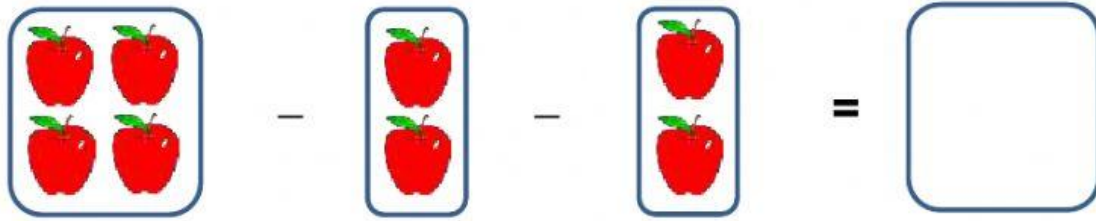
Jika sudah, yuk kerjakan latihan di bawah ini!

## LKPD

Nama :

Kelas :

Contoh :



A visual subtraction problem using apples. A box containing 4 red apples is followed by a minus sign, then a box containing 2 red apples, another minus sign, then another box containing 2 red apples, followed by an equals sign and an empty box.

$$4 - 2 - 2 = 0$$

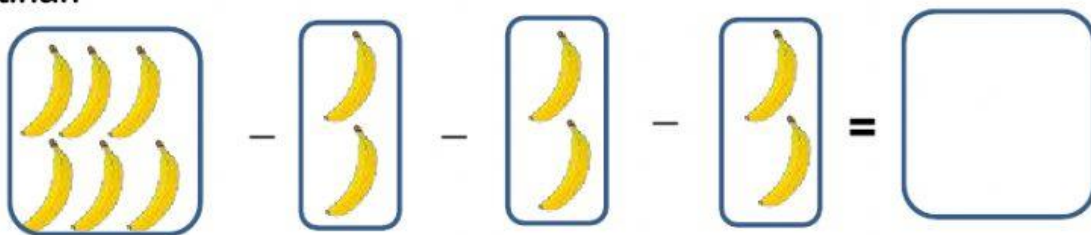
Ada 2 kali pengurangan, sampai hasilnya 0.

Karena ada 2 kali pengurangan, maka bisa di tulis

$$4 : 2 = 2$$

Latihan

1.



A visual subtraction problem using bananas. A box containing 6 yellow bananas is followed by a minus sign, then a box containing 2 yellow bananas, another minus sign, then another box containing 2 yellow bananas, followed by an equals sign and an empty box.

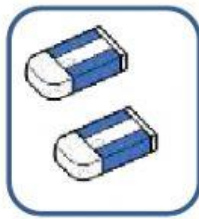
$$\dots - \dots - \dots - \dots = \dots$$

Ada 3 kali pengurangan, sampai hasilnya 0.

Karena ada 3 kali pengurangan, maka bisa di tulis

$$6 : 2 = \dots$$

2.



-



-



=



-



-




=



Ada 2 kali pengurangan, sampai hasilnya 0.

Karena ada 2 kali pengurangan, maka bisa di tulis  $2 : 1 = \dots$

3.



-



-



=



-



-



=



Ada  $\dots$  kali pengurangan, sampai hasilnya 0.

Karena ada  $\dots$  kali pengurangan, maka bisa di tulis

$$8 : 4 = \dots$$