

**LKPD**

**Mata Pelajaran :  
Matematika  
Semester/Kelas : 1/5  
Kecepatan dan waktu**



# PETUNJUK LKPD



Tulis nama setiap Anggota Kelompok



Bacalah langkah kerja dengan cermat



Tanyakan pada guru apabila ada yang belum dipahami



Apabila telah selesai rapikan alat tulis



Kumpulkan hasil kerja kalian pada guru

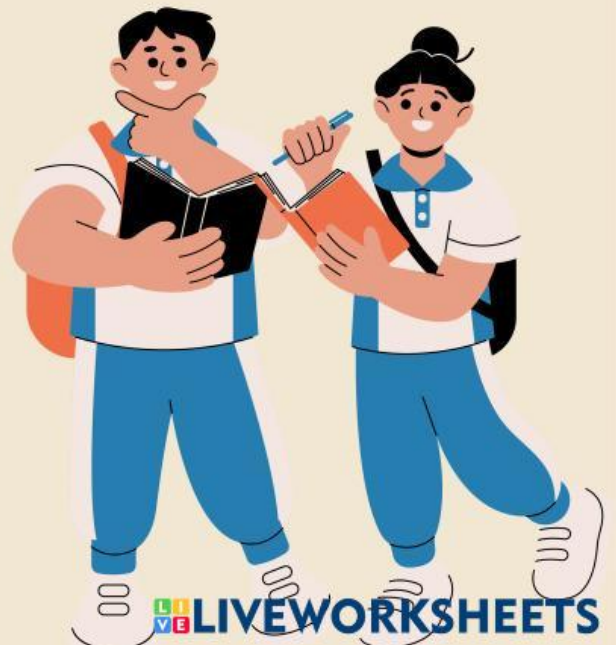


Nama :  
No. Urut :

**Mata Pelajaran : Matematika**  
**Kelas/Semester : Lima (5)/satu (1)**  
**Materi : Pengukuran waktu dan Kecepatan**

## Kegiatan 1

Simaklah video di bawah ini agar memudahkan anda menyelesaikan soal yang diberikan



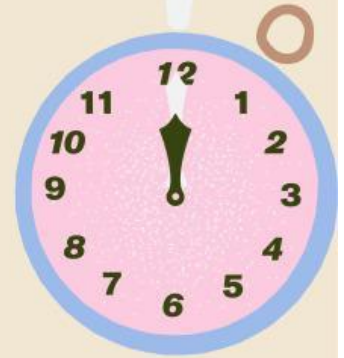

# Lembar Kerja


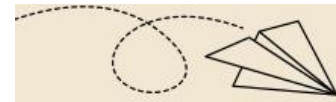
## Kegiatan 2

Kerjakanlah soal latihan di bawah ini !

1.  $3.600 \text{ m/jam} = \dots \text{ m/menit} = \dots \text{ m/detik}$

Penyelesaian :





2. Jarak antara dua kota adalah 175 km dan bisa ditempuh dengan mobil selama 3,5 jam. Maka kecepatan mobil dalam menempuh perjalanan adalah .... km/jam

Penyelesaian :

