

Nombre y Apellido: _____

Números del 1 al 9

¡Unimos!

1. Unimos los números con las cantidades correspondientes: (8 pts.)








9

2	•		•	5
4	•		•	2
7	•		•	1
5	•		•	7
3	•		•	3
8	•		•	6
6	•		•	4
1	•		•	8

Nombre y Apellido: _____






¡Completamos!

2. Observa cada conjunto y escribe el número de elementos que tiene (7 pts)

			
<input type="text"/>	<input type="text"/>	<input type="text"/>	
			
<input type="text"/>	<input type="text"/>	<input type="text"/>	<input type="text"/>

¡Unimos!

3. Une con líneas correctamente cada conjunto con su número correspondiente (5pts)

				
<input type="text"/>	<input type="text"/>	<input type="text"/>	<input type="text"/>	<input type="text"/>
5	7	6	9	8