

LKPD 1

NAMA :



KELAS :

Petunjuk!


1. Tekanlah gambar yang merupakan 3 kelinci!
2. Pilihlah yang merupakan angka 3!
3. Apakah meja yang di lingkarakan itu berjumlah 3!



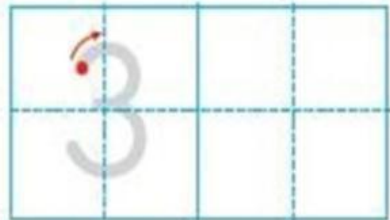
1.



2.



3



3.



Tiga

