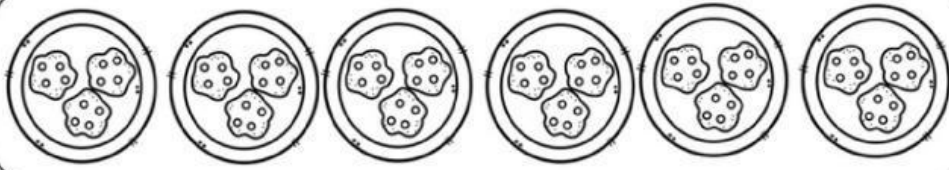


CAMINO A LA MULTIPLICACIÓN


Instrucciones. Observa las imágenes y completa



+ + + + +

Hay platos. Cada plato tiene galletas.

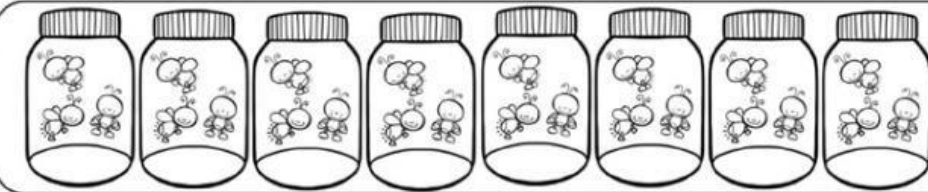
En total hay galletas.



+ + + + + + + +

Hay grupos de globos. Cada grupo tiene globos.

En total hay globos.



+ + + + + + +

Hay frascos. Cada frasco tiene luciérnagas.

En total hay luciérnagas.