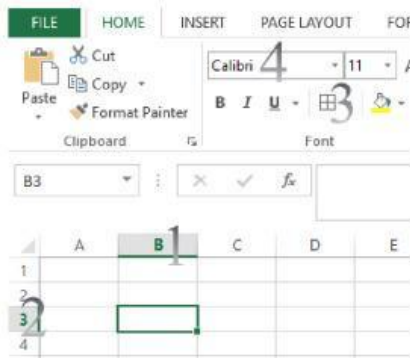


Soal Post Test PPL pertemuan 4_Analisis Data_Microsoft Excel

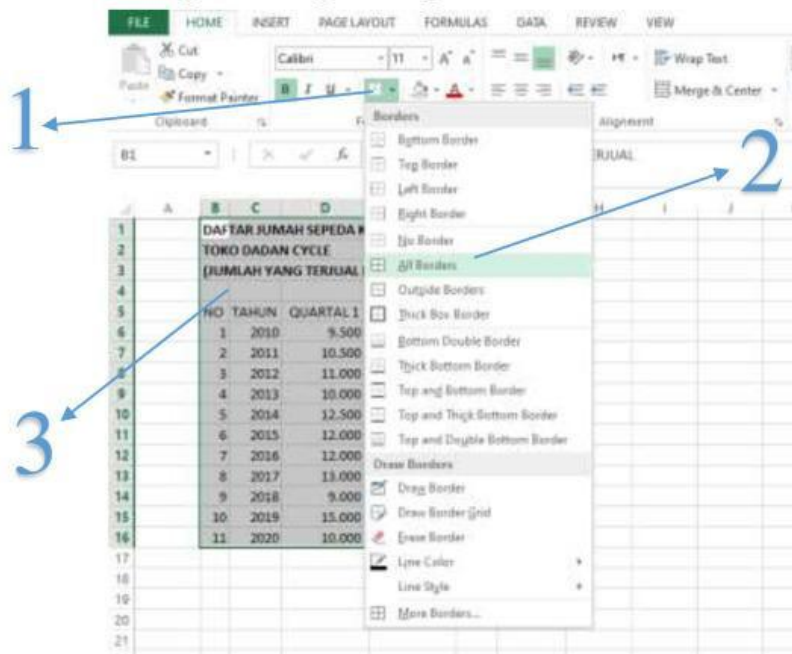
Silahkan pilih jawaban dari soal-soal berikut dengan yakin dan benar!

1. Perhatikan gambar berikut dengan teliti!



Pada gambar aplikasi pengolah angka berikut, manakah yang menunjukkan kolom? ...

- a. No 1 b. No 2 c. No 3 d. No 4
2. Berikut adalah gambar langkah-langkah untuk membuat border dalam Microsoft Excel.



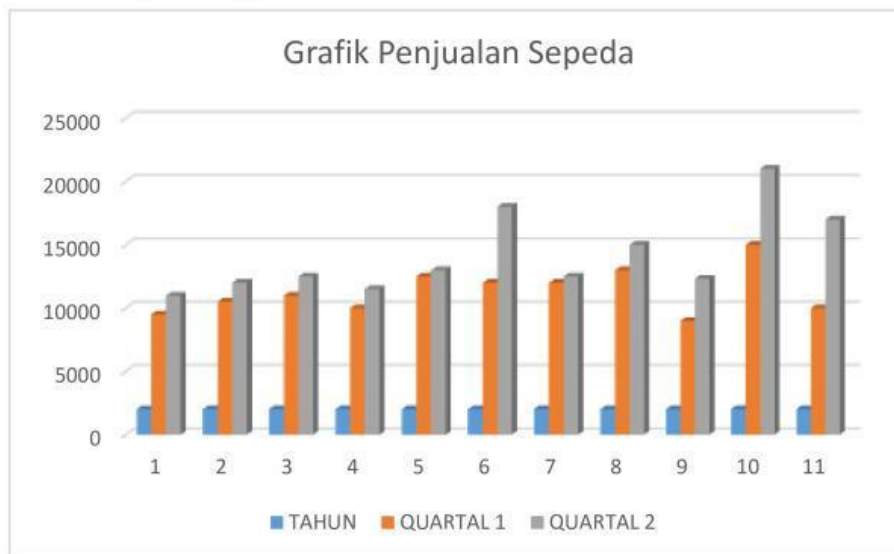
Manakah langkah-langkah yang tepat untuk membuat border!

- a. 1-2-3 b. 3-2-1 c. 1-3-2 d. 3-1-2
3. Jodohkan penulisan yang benar operator aritmatika yang benar dalam Microsoft Excel!

PENJUMLAHAN
PERKALIAN
PENGURANGAN
PEMBAGIAN

X
+
/
:
*
-

4. Perhatikan gambar grafik berikut!



Dari data grafik diatas, tentukan tahun dan kwartal penjualan tertinggi! (isi dengan angka)

Jawaban: Tahun ke Kwartal ke