



PENILAIAN AKHIR TAHUN
MI PSM SATRIYAN
TAHUN PELAJARAN 2022 / 2023

Mata Pelajaran : Bahasa Indonesia	Hari / Tanggal : Sabtu, 3 Juni 2023
Kelas : V (Lima)	Waktu : 90 Menit

Tuliskan huruf A, B, C atau D sesuai jawaban yang paling benar pada kolom yang telah disediakan!

Bacalah kutipan teks penjelasan berikut untuk menjawab soal nomor 1–3!

(1) Kalor merupakan salah satu bentuk energi atau tenaga yang berhubungan dengan panas atau suhu suatu benda. (2) Kalor dapat menyebabkan perubahan wujud. (3) Benda yang diberi kalor suhunya akan menjadi naik. (4) Sementara itu, benda yang melepas kalor suhunya akan turun.

- Ide pokok pada paragraf tersebut adalah **HOTS**
 - tenaga selalu berhubungan dengan panas atau suhu
 - kalor adalah energi yang berhubungan dengan panas atau suhu
 - benda yang diberi kalor suhunya akan naik
 - yang melepas kalor suhunya akan turun
- Kalor merupakan energi yang berhubungan dengan
 - panas
 - udara
 - air
 - cahaya
- Kalimat utama paragraf di atas ditunjukkan nomor
 - (1)
 - (2)
 - (3)
 - (4)

Bacalah teks berikut untuk menjawab soal nomor 4–8!

Air hujan sampai di permukaan bumi dan mengalir di permukaan bumi, bergerak menuju ke laut dengan membentuk alur-alur sungai. Alur-alur sungai ini dimulai di daerah yang tertinggi di suatu kawasan, bisa daerah pegunungan, gunung, perbukitan, dan berakhir di tepi pantai. Secara sederhana, segmen aliran sungai itu dapat kita bedakan menjadi daerah hulu, tengah, dan hilir. Di daerah hulu yang biasanya terdapat di daerah pegunungan,

gunung, atau perbukitan. Lembah sungai sempit dan potongan melintangnya berbentuk huruf "V".

- Teks tersebut termasuk jenis teks
 - deskripsi
 - eksplanasi
 - eksposisi
 - narasi
- Teks tersebut membahas tentang
 - sungai
 - laut
 - gunung
 - air hujan
- Pertanyaan yang tidak sesuai dengan isi teks tersebut ialah
 - Ke manakah air hujan bermuara?
 - Dimulai dari manakah alur-alur sungai?
 - Apa yang dimaksud dengan air hujan?
 - Terdapat di mana sajakah daerah hulu?
- Berikut yang bukan daerah hulu sungai ialah
 - pegunungan
 - bukit
 - gunung
 - pantai
- Akhir aliran sungai ialah ke
 - waduk
 - danau
 - laut
 - hulu

Bacalah teks berikut untuk menjawab soal nomor 9–11!

(1) Ekosistem adalah suatu proses yang terbentuk karena adanya hubungan timbal balik antara makhluk hidup dan lingkungan. (2) Dalam suatu ekosistem terdapat makhluk hidup dan benda di dalamnya. (3) Makhluk hidup disebut komponen biotik. (4) Benda-benda di dalamnya disebut komponen abiotik.

9. Judul yang tepat untuk teks di atas ialah
 - a. Ekosistem
 - b. Makhluk Hidup
 - c. Komponen Biotik
 - d. Komponen Abiotik
10. Berikut bukan komponen biotik adalah
 - a. hewan
 - b. air
 - c. manusia
 - d. tumbuhan
11. Kalimat utama paragraf tersebut ditunjukkan nomor **HOTS**
 - a. (1)
 - b. (2)
 - c. (3)
 - d. (4)

Bacalah teks berikut untuk menjawab soal nomor 12–14!

Ada dua macam cara pendidikan, yaitu pendidikan formal dan nonformal. Pendidikan formal memiliki standar kurikulum yang sudah ditentukan oleh pemerintah, seperti SD, SMP, SMA/SMK. Pendidikan nonformal yang lebih dikenal dengan pendidikan luar sekolah, seperti kursus-kursus, biasanya menyusun kurikulum sendiri yang disesuaikan dengan kebutuhan dan kebijakan lembaga yang bersangkutan.

12. Gagasan pokok paragraf tersebut adalah
 - a. ada dua macam cara pendidikan
 - b. pendidikan formal
 - c. pendidikan nonformal
 - d. pendidikan di Indonesia
13. Berikut bukan termasuk pendidikan formal, yaitu
 - a. SD
 - b. SMP
 - c. SMK
 - d. kursus menjahit
14. Pendidikan yang memiliki standar kurikulum yang ditetapkan pemerintah ialah
 - a. pendidikan formal
 - b. pendidikan informal
 - c. pendidikan nonformal
 - d. kursus

Bacalah teks berikut untuk menjawab soal nomor 15 dan 16!

Pada kongres hari kedua, W.R. Soepratman, membawakan lagu ciptaannya yang berjudul *Indonesia Raya*. Diiringi dengan gesekan biola, peserta rapat terpukau mendengar lagu tersebut. Saat itu lagu *Indonesia Raya* pertama kali dinyanyikan di Gedung Sumpah Pemuda.

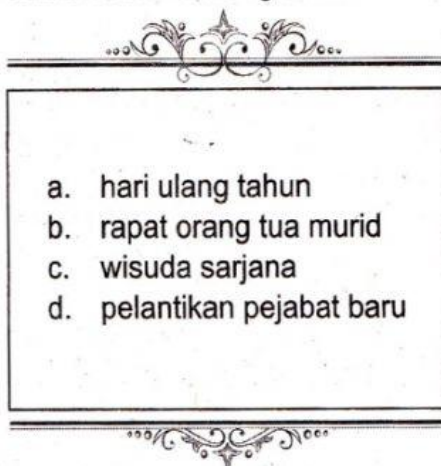
15. Informasi yang tidak sesuai dengan teks tersebut ialah **HOTS**
 - a. lagu *Indonesia Raya* dinyanyikan pertama kali di Gedung Sumpah Pemuda
 - b. *Indonesia Raya* diciptakan oleh W.R. Soepratman
 - c. nyanyian lagu *Indonesia Raya* diiringi dengan biola
 - d. nyanyian lagu *Indonesia Raya* diiringi dengan gitar
16. Arti kata *kongres* adalah
 - a. pertemuan besar wakil-wakil organisasi
 - b. pemilihan ketua organisasi
 - c. pembentukan organisasi
 - d. pembentukan negara

Bacalah teks berikut untuk menjawab soal nomor 17–19!

Perundingan Linggajati merupakan perundingan antara pemerintah RI dan Belanda yang diadakan pada 10 November 1946. Dalam perundingan itu Indonesia diwakili oleh Sutan Syahrir, sementara Belanda diwakili oleh van Mook. Perundingan Linggajati secara resmi ditandatangani pada tanggal 25 Maret 1947. Perundingan dinamakan Linggajati karena diadakan di Desa Linggajati. Isi perundingan tersebut sangat merugikan Indonesia. Wilayah Indonesia semakin sempit, hanya meliputi wilayah Jawa, Sumatra, dan Madura.

17. Berikut yang bukan wilayah Indonesia menurut Perundingan Linggajati ialah
 - a. Jawa
 - b. Sumatra
 - c. Kalimantan
 - d. Madura

18. Informasi yang tidak sesuai dengan teks di atas ialah **HOTS**
- Perundingan Linggajati merupakan perundingan antara pemerintah RI dan Belanda
 - Perundingan Linggajati dilakukan pada 25 Maret 1947
 - Dalam Perundingan Linggajati, Belanda diwakili van Mook
 - Isi Perundingan Linggajati sangat merugikan pihak Indonesia
19. Dalam Perundingan Linggajati, Indonesia diwakili oleh
- Sutan Syahrir
 - Moh. Hatta
 - Sri Sultan Hamengkubuwono IX
 - Van Mook
20. Perhatikan ciri-ciri berikut!
- (1) Tidak memakai kepala surat (kop surat).
 - (2) Bentuk suratnya boleh tidak standar.
 - (3) Boleh menggunakan bahasa campuran (baku dan tidak baku).
 - (4) Menggunakan kertas yang lazim dipakai untuk surat-menyurat.
- Pernyataan di atas merupakan ciri-ciri dari
- surat undangan resmi
 - surat undangan tidak resmi
 - surat undangan setengah resmi
 - surat edaran
21. Contoh surat undangan tidak resmi adalah surat undangan



22. Surat undangan ditulis untuk mengundang seseorang agar datang dalam suatu acara. Surat undangan resmi harus ditulis dengan bahasa yang sopan. Berikut contoh penutup surat undangan resmi yang baik ialah
- Aku tunggu kehadiranmu, ya
 - Karena acara ini penting, maka kamu harus datang tepat waktu
 - Atas perhatian dan kehadirannya, kami ucapkan terima kasih
 - Semoga bapak/ibu dapat hadir tepat waktu. Terima kasih
23. Surat undangan sebaiknya diakhiri dengan
- ucapan terima kasih
 - ucapan dengan hormat
 - perintah untuk wajib datang
 - perintah untuk tepat waktu
- Perhatikan kutipan surat berikut untuk menjawab soal nomor 24 dan 25!**
- Dengan hormat,
Sehubungan dengan kelulusan putra-putri Bapak/Ibu, kami pihak sekolah mengharapkan kehadiran orang tua/wali murid dalam acara perpisahan yang akan dilaksanakan pada:
Hari, tanggal : Senin, 12 Juni 2023
Waktu : 8.00 WIB – selesai
Tempat : Aula SD Harapan Bangsa
Acara : pentas seni dan perpisahan
- Karena pentingnya acara tersebut, kami memohon Bapak/Ibu berkenan hadir. Jika berhalangan hadir harap ada yang mewakili. Mohon hadir tepat waktu. Demikian surat ini kami sampaikan, atas kehadiran dan perhatiannya kami ucapkan terima kasih.
24. Kutipan surat di atas merupakan jenis surat
- undangan
 - panggilan
 - pribadi
 - perintah
25. Undangan di atas ditujukan kepada
- siswa
 - wali kelas
 - wali murid
 - kepala sekolah

Bacalah teks berikut untuk menjawab soal nomor 26 - 30 !

Suhu atau temperatur adalah tingkat panas atau derajat panas suatu benda. Suhu dan panas adalah dua hal yang berbeda. Suhu adalah besaran yang menyatakan derajat panas dinginnya suatu benda, sedangkan panas adalah suatu energi yang dapat diterima dan dilepaskan oleh suatu benda. Nama alat yang digunakan untuk mengukur suhu adalah termometer, sedangkan nama alat yang digunakan untuk mengukur panas adalah kalorimeter. Satuan suhu yang banyak digunakan di Indonesia adalah derajat Celsius ($^{\circ}\text{C}$). Adapun satuan panas dinyatakan dalam kalori.

26. Paragraf di atas termasuk jenis teks
a. deskripsi c. eksplanasi
b. eksposisi d. narasi
27. Tingkat panas atau derajat panas suatu benda disebut
a. suhu c. cuaca
b. kalor d. celcius
28. Kata kunci teks di atas ialah
a. suhu c. kalori
b. kalor d. celcius
29. Kalimat utama paragraf di atas ialah
a. Suhu adalah besaran yang menyatakan derajat panas dinginnya suatu benda, sedangkan panas adalah suatu energi yang dapat diterima dan dilepaskan oleh suatu benda.
b. Satuan suhu yang banyak digunakan di Indonesia adalah derajat Celsius ($^{\circ}\text{C}$). Adapun satuan panas dinyatakan dalam kalori.
c. Suhu atau temperatur adalah tingkat panas atau derajat panas suatu benda.
d. Suhu dan panas adalah dua hal yang berbeda.
30. Nama alat yang digunakan untuk mengukur suhu adalah
a. kalorimeter c. speedometer
b. termometer d. barometer
31. Teks penjelasan menyampaikan penjelasan tentang proses terciptanya sesuatu secara
a. alami c. fiktif
b. lengkap d. tepercaya
32. Berikut yang bukan unsur teks eksplanasi, yaitu
a. pernyataan umum
b. sebab-akibat
c. interpretasi
d. deskripsi
33. Salah satu hal yang perlu diperhatikan dalam menulis surat undangan adalah
a. tidak perlu ada informasi tentang tempat dan waktu
b. menggunakan bahasa penuh kiasan
c. nama acara atau kegiatan dirahasiakan
d. mencantumkan identitas pengundang
34. Bacalah teks berikut!
(1) Perubahan lingkungan akan membawa dampak bagi kehidupan manusia, baik secara positif maupun negatif. (2) Perubahan lingkungan berdampak positif berarti baik dan menguntungkan bagi kehidupan manusia maupun lingkungan tersebut. (3) Sementara berdampak negatif berarti tidak baik dan merugikan karena dapat mengurangi kemampuan alam untuk menyokong kehidupan manusia. Contoh dampak negatif perubahan lingkungan ialah terjadinya bencana alam.

Kalimat utama paragraf di atas ditunjukkan nomor

- a. (1) c. (3)
- b. (2) d. (4)

Bacalah teks berikut untuk menjawab soal nomor 35 dan 36 !

Sistem tanam paksa merupakan aturan yang diperintahkan oleh Gubernur van den Bosch yang mewajibkan agar setiap desa menyisihkan tanahnya untuk ditanami tanaman ekspor. Sistem Tanam Paksa atau *cultuur stelsel* ditetapkan van den Bosch pada tahun 1830.

Tujuan sistem tanam paksa atau *cultuur stelsel* adalah memperoleh pendapatan sebanyak mungkin dalam waktu relatif singkat untuk mengisi kekosongan kas Belanda yang pada saat itu terkuras habis akibat perang.

35. Pertanyaan yang jawabannya sesuai dengan paragraf kedua ialah
- a. Kapan tanam paksa mulai diberlakukan?
 - b. Siapa yang memberlakukan sistem tanam paksa?
 - c. Apa tujuan sistem tanam paksa?
 - d. Bagaimana pelaksanaan sistem tanam paksa?
36. Informasi yang tidak sesuai dengan teks di atas ialah **HOTS**
- a. sistem tanam paksa diberlakukan pada masa penjajahan Belanda
 - b. sistem tanam paksa diberlakukan pada masa penjajahan Jepang
 - c. sistem tanam paksa diberlakukan sejak 1830
 - d. sistem tanam paksa merupakan aturan yang diperintahkan oleh Gubernur van den Bosch

Indonesia merupakan negara yang terkenal dengan rempah-rempah. Dahulu rempah-rempah merupakan barang yang sangat berharga dan banyak dicari bangsa Eropa. Sejak abad ke-15, bangsa Eropa selalu mencari rempah-rempah dari wilayah Timur. Mayoritas bangsa Eropa,

seperti Portugis, Spanyol, Inggris, dan Belanda yang datang ke Indonesia tertarik pada rempah-rempah yang memiliki kualitas bagus dan harganya murah.

37. Kesimpulan teks tersebut ialah ... **HOTS**
- a. Bangsa Eropa tertarik datang ke Indonesia karena memiliki rempah-rempah yang berkualitas dengan harga murah
 - b. Bangsa Eropa mengambil rempah-rempah di Indonesia untuk dijual di Eropa
 - c. Seluruh bangsa Eropa ingin ke Indonesia untuk mendapatkan rempah-rempah.
 - d. Indonesia menjual rempah-rempah dengan harga murah untuk bangsa Eropa
38. Informasi yang sesuai dengan teks soal nomor 37 ialah
- a. Indonesia terkenal sebagai negara penghasil kopi
 - b. rempah-rempah di Indonesia memiliki kualitas-bagus
 - c. bangsa Eropa tertarik datang ke Indonesia karena tanahnya subur
 - d. Belanda merupakan negara pertama yang datang ke Indonesia

Bacalah teks berikut untuk menjawab soal nomor 39 dan 40!

Untuk menangani masalah kekeringan dalam jangka pendek (dalam satu musim kering), biasanya tidak terdapat banyak pilihan. Apabila kekeringan sangat parah, prioritas utama ialah memenuhi kebutuhan air yang sangat mendesak, yakni air minum dan kebutuhan sehari-hari. Beberapa alternatif yang bisa dilakukan, misalnya pengeboran air tanah dalam. Namun, itu hanya bisa dilakukan di daerah-daerah tertentu yang memungkinkan. Penanganan bencana kekeringan jangka menengah salah satunya dapat dilakukan dengan merevitalisasi danau, situ, dan embung sebagai penyimpan air sehingga dapat menampung air pada saat musim hujan tiba.

39. Ide pokok paragraf tersebut ialah

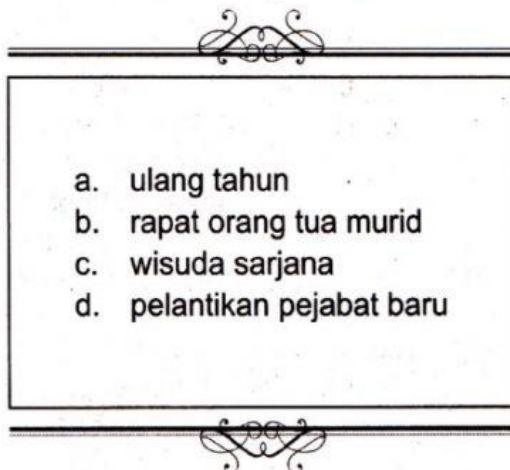
HOTS

- a. mencegah bencana kekeringan di daerah
- b. memberi bantuan kepada masyarakat yang daerahnya mengalami kekeringan
- c. upaya menangani masalah kekeringan
- d. pembuatan danau atau embung untuk mencegah kekeringan

40. Masalah yang dibahas dalam teks tersebut ialah

- a. banjir
- b. kekeringan
- c. kemiskinan
- d. daerah kumuh

41. Contoh surat undangan tidak resmi adalah surat undangan



42. Perhatikan ciri-ciri berikut!

- (1) Tidak memakai kepala surat (kop surat).
- (2) Bentuk surat boleh tidak standar.
- (3) Boleh menggunakan bahasa campuran (baku dan tidak baku).
- (4) Menggunakan kertas yang lazim dipakai untuk surat-menyurat.

Pernyataan tersebut merupakan ciri-ciri

- a. surat undangan resmi
- b. surat undangan tidak resmi
- c. surat undangan setengah resmi
- d. surat edaran

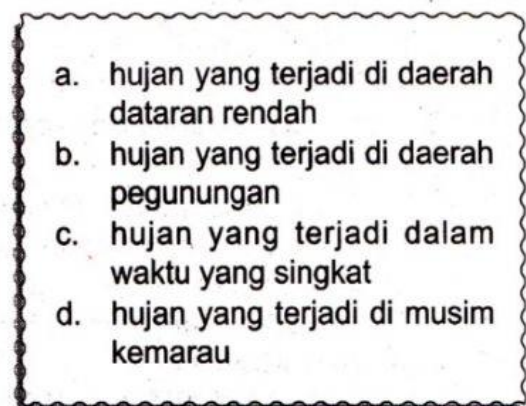
Bacalah teks berikut untuk menjawab soal nomor 43 dan 44!

Bogor dikenal dengan julukan kota hujan karena memiliki curah hujan yang tinggi. Musim kemarau di Bogor biasanya terjadi pada bulan Juli sampai September dengan suhu rata-rata 30–32 derajat Celcius. Hujan juga akan turun di Kota Bogor walau sedang berada di musim kemarau. Salah satu tempat dengan curah hujan tinggi saat kemarau adalah Ciawi. Kota Bogor terletak di kaki Gunung Gede dan Gunung Salak, berada pada ketinggian 190–330 meter dari permukaan laut. Udara paling sejuk di Bogor mencapai 21,8 derajat Celcius. Kota Bogor yang terletak di dekat pegunungan membuat kawasannya sering dilanda hujan orografi (hujan yang terjadi di daerah pegunungan).

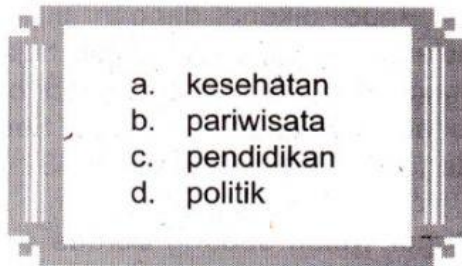
43. Informasi yang sesuai dengan paragraf di atas ialah

- a. Bandung dikenal dengan julukan kota hujan karena memiliki curah hujan yang tinggi
- b. Musim kemarau di Bogor biasanya terjadi pada bulan Juni sampai Oktober
- c. Kota Bogor yang terletak di dekat pegunungan membuat kawasannya sering dilanda hujan orografi
- d. Kota Bogor terletak di kaki Gunung Gede dan Gunung Tangkuban Perahu

44. Berdasarkan teks di atas, hujan orografi adalah



45. Iklan paket liburan ke Dieng merupakan jenis iklan



Perhatikan iklan berikut untuk menjawab soal nomor 46 dan 47!



46. Iklan tersebut termasuk dalam jenis iklan



47. Pesan yang disampaikan dalam iklan tersebut ialah
- menjaga persatuan dan kesatuan
 - mempermasalahkan perbedaan suku bangsa
 - Indonesia terdiri atas berbagai suku bangsa
 - rajin belajar agar dapat memajukan bangsa

48. Perhatikan iklan berikut!

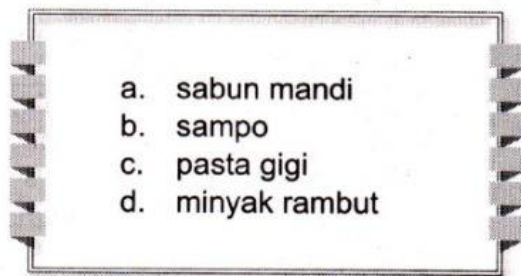


Iklan di atas tergolong iklan

- penawaran
- penjualan
- layanan masyarakat
- pemberitahuan

49. Mencegah gigi berlubang, melindungi gigi dan gusi, dan napas segar sepanjang hari.

Kalimat tersebut merupakan contoh iklan



50. Iklan di atas untuk memperkenalkan

HOTS

- minuman dengan rasa buah segar
- minuman yang mengandung susu
- yoghurt yang mengandung rasa buah dan susu
- buah segar untuk minuman anak-anak

Selamat Mengerjakan!