





## EJERCICIOS CON NUMEROS DEL 1 AL 5

### ¡Arrastramos!

1 Observa cada conjunto y coloca el número de elementos que tiene cada imagen. (4 pts.)

			
<input type="text"/>	<input type="text"/>	<input type="text"/>	<input type="text"/>
<input type="text" value="2"/>	<input type="text" value="3"/>	<input type="text" value="1"/>	<input type="text" value="4"/>

### ¡Unamos!

2. Una las bolitas azules con las bolitas blancas, representando la misma cantidad (4 pts.)

- |  |   |
|--|---|
| a)  |  |
| b)  |  |
| c)  |  |
| d)  |  |

### ¡Marcamos!

Observa las imágenes y según la cantidad marque la respuesta correcta (4 pts.)



2 4 5



1 3 4

#### 4. ¡Completamos!

Halla el resultado de la siguiente suma



$$\textcircled{2} + \textcircled{1} = \textcircled{\quad}$$