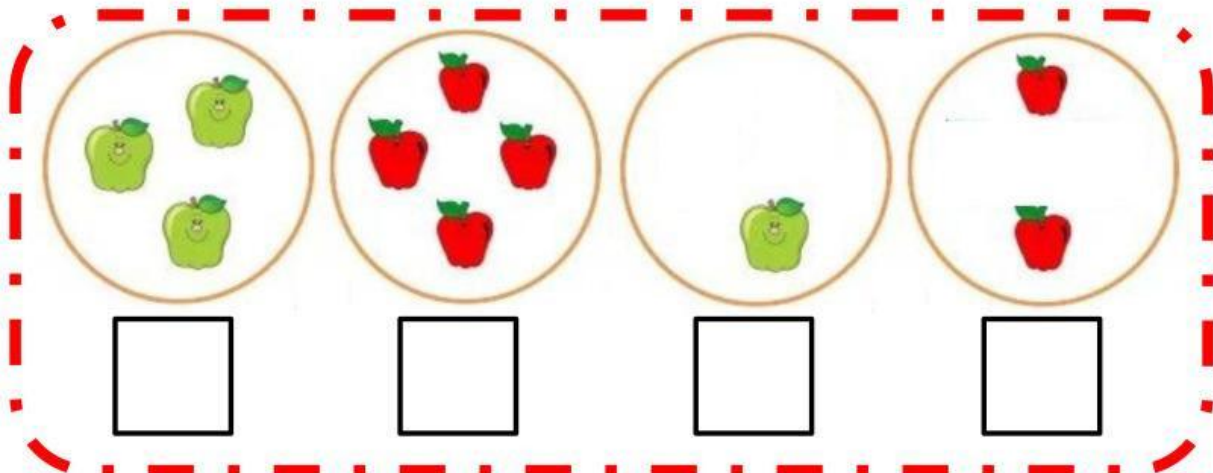


Nombre y Apellido: \_\_\_\_\_

## Ejercicios con números del 1 al 5

### ¡Arrastramos!

1. Observa cada conjunto y coloca el número de elementos que tiene cada imagen. (4 pts.)



1

















2

3

4

### ¡Unamos!

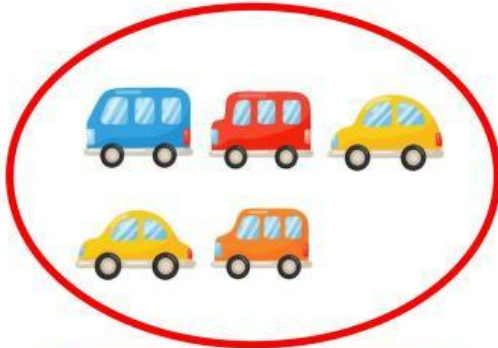
2. Una las bolitas azules con las bolitas blancas, representando la misma cantidad. (4 pts.)

a)	 	 
b)	 	 
c)	 	 
d)	 	 

Nombre y Apellido: \_\_\_\_\_

**¡Marquemos!**

3. Observa las imágenes y según la cantidad marque la respuesta correcta. (4 pts.)



1      3      5



2      4      5



1      3      5




1      2      5

**¡Completamos!**

4. Halle el resultado de las siguientes sumas. (8 pts.)

$$\begin{array}{c}
 \text{1 pear} + \text{2 pears} = \text{3 pears} \\
 \boxed{1} + \boxed{2} = \boxed{\phantom{00}}
 \end{array}$$

Nombre y Apellido: \_\_\_\_\_


$$\boxed{2} + \boxed{2} = \boxed{\phantom{00}}$$

Nombre y Apellido: \_\_\_\_\_