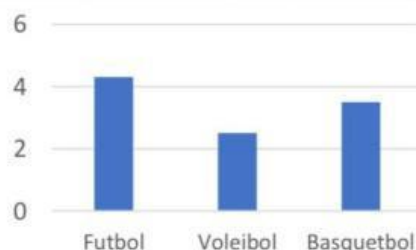
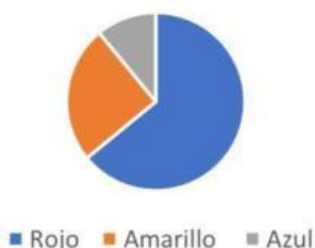


**TERCER GRADO****Repaso y aprendo****Actividad 1.** Responde si es VERDADERO o FALSO.

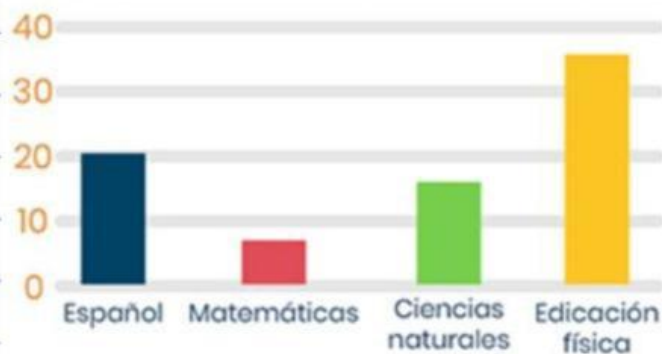
DESCRIPCIÓN	VERDADERO	FALSO
Un ejemplo de alimento saludable es la manzana.		
Un ejemplo de alimento saludable son los pastelillos.		
Algunos ejemplos de alimentos de origen animal son: el pollo, el huevo y la leche.		
La comida chatarra es un tipo de alimento con altos contenidos nutrimentales y pocas cantidades de azúcares.		
Un hábito de alimentación saludable es distribuir la ingesta de alimentos en cuatro o cinco comidas al día.		
Las figuras geométricas pueden estar formadas por rectas, curvas o una combinación de ambas.		

**Actividad 2.** Selecciona la gráfica de barras.

**TERCER GRADO**

**Repaso y aprendo**

**Actividad 3.** Observa la gráfica y contesta las preguntas.



**1.- ¿Cuál materia es la preferida según la gráfica?**

- a) Español.
- b) Matemáticas
- c) Ciencias naturales
- d) Educación física

**2.- ¿Cuál materia es la menos preferida?**

- a) Español
- b) Matemáticas
- c) Ciencias naturales
- d) Educación física

**3.- ¿Cuál materia tuvo 20 votos?**

- a) Español
- b) Matemáticas
- c) Ciencias naturales
- d) Educación física



**TERCER GRADO**

**Repaso y aprendo**

**Actividad 4.** Une la fracción con su representación gráfica.

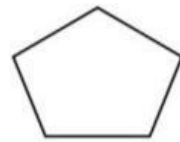
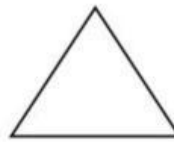
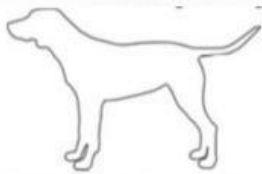
$\frac{1}{2}$



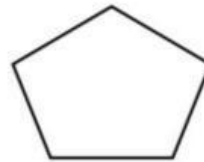
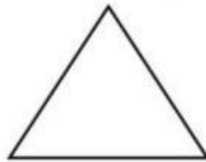

$\frac{1}{4}$



**Actividad 5.** Selecciona las figuras geométricas.



**Actividad 6.** Une la figura con la cantidad de lados que tiene.



**4**

**3**

**1**

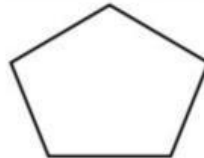
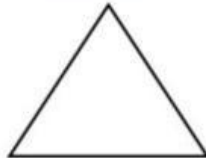


**4**

**5**

**TERCER GRADO**

**Repaso y aprendo**

**Actividad 7.** Une cada figura con el nombre que le corresponde.



Círculo

Cuadrado

Rectángulo

Pentágono

Triángulo

**Actividad 8.** Observa y une las cantidades donde corresponde.

\$120

\$170

\$80

\$90

\$250

\$50

\$20

\$20

\$100

\$100

\$50

\$50

\$20

\$10

\$100

\$50

\$10

\$10

\$50

\$50

\$20