



EVALUACIÓN PRIMER TRIMESTRE

Séptimo A, B

1. Seleccione la respuesta correcta según corresponda al tema dispositivos del computador.

a) ¿Qué Dispositivo es un Periférico de Entrada?

CPU

Micrófono

Teclado

Monitor

Impresora

b) Los dispositivos de salida son todos aquellos mediante los cuales el computador:

Logra guardar información.

Permite ver toda la información.

Controla los otros dispositivos.

c) Los pèrifericos de un computador son:

Dispositivos electrònicos y físicos que se conectan al computador.

Todo aquello que no puedo ver del computador.

d) Los usos màs comunes del programa Power Point son:

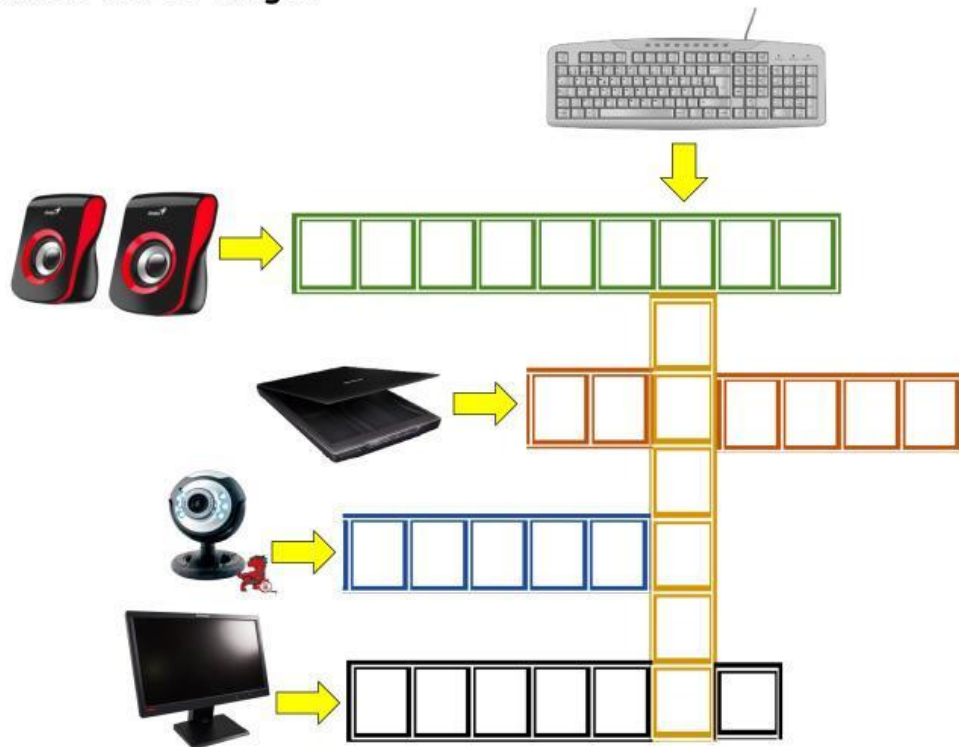
Redactar una carta

Dibujar imágenes

Realizar presentaciones

Cálculos matemáticos

2. Ubica los nombres de los siguientes dispositivos en el siguiente crucigrama relacionandolos con su imagen:




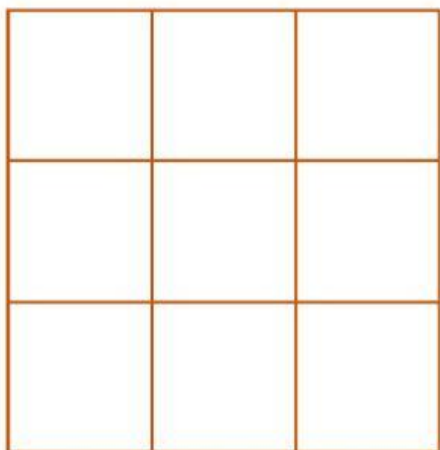
3. Encuentra los nombres de los siguientes dispositivos del computador en esta pequeña sopa de letras:

R	U	N	C	P	U	A	L	L	C
E	N	M	O	U	S	E	I	E	P
N	E	T	C	B	U	B	M	Q	W
N	T	V	T	E	C	L	A	D	O
A	E	B	E	P	U	G	J	U	P
C	S	E	T	N	A	L	R	A	P
S	R	O	T	I	N	O	M	C	V
J	A	N	U	A	R	G	U	A	Y
U	I	M	P	R	E	S	O	R	A
E	C	A	M	A	R	A	C	O	L

a. Cámara c. Monitor
b. Cpu d. Mouse

e. Scanner g. Parlantes
f. Teclado h. Impresora

4.- Arma el ícono de Power Point y coloca las figuras en el lugar correcto.



5.- Una con una línea según corresponda las partes de la mesa de trabajo de Power Point



Animaciones



Editar Fuente



Diseño o temas de diapositivas



Insertar nuevas diapositivas