

FASE 2: CREACIÓN DE LA FIGURA (1 SESIÓN)

GRUPO \_\_\_\_\_





FECHA \_\_\_\_\_

¿Qué hacemos hoy?

OBJETIVO:

\_\_\_\_\_

¿Quién hace qué?

			
_____	_____	_____	_____
_____	_____	_____	_____
_____	_____	_____	_____
_____	_____	_____	_____
_____	_____	_____	_____
_____	_____	_____	_____
_____	_____	_____	_____
_____	_____	_____	_____
_____	_____	_____	_____
_____	_____	_____	_____

Visualizar el vídeo correspondiente a vuestra figura y realizarla en papel. Una vez realizada, deshacerla y marcar en ella todos los elementos geométricos que podáis. Para ello necesitareis regla, transportador y rotuladores. Completad la siguiente tabla recogiendo todos los elementos que podáis escribiendo la definición de cada elemento.

ELEMENTO	DEFINICIÓN	SÍ	NO
Rectas paralelas			
Rectas perpendiculares			
Rectas secantes			
Medianas			

Mediatrices			
Bisectrices			
Alturas			
Polígonos			
Triángulos rectángulos			
Triángulos equiláteros			
Triángulos isósceles			
Ángulos $90^\circ$			
Ángulos $45^\circ$			
Ángulos $180^\circ$			
Ángulos $30^\circ$			
Ángulos $60^\circ$			
Ángulos complementarios			

Marcar **con un rotulador cada uno de los elementos encontrados**, haced una foto de cada elemento y subidla al aula virtual.

¿Lo hemos conseguido?

Tareas realizadas

Problemas y solución

Tareas pendientes

Ideas para completarlas