




Ejercicio de Informática

Instrucciones: Llenar los espacios coloreados en amarillo, los tres primeros los debe inventar el estudiante, Recuerde que debe colocar la fórmula, tome en cuenta al momento de escribir la fórmula las columnas letras y filas Número

	A	B	C	D
2	JUGUETERIA JUGUETEA			
3				
4		00000-0000-0000		
5		WWW.JUGUETERIAJUGUETEA@GMAIL.COM		
6		CALLE CHEVERE VIA DIVERTIDA		
7				
8	N.º de factura			
9	Fecha de la factura			
10	Id. del cliente			
11				
12	NOMBRE		GRADO	
13				
14				
15	Cantidad	Descripción	Precio por unidad	ESCRIBE AQUÍ ABAJO LA FÓRMULA CORRECTA
16	2	CUBO RUBIK 3X3	7.50 €	
17	1	LOL Surprise! OMG	25.00 €	
18	2	Rombecabeza	3.99 €	
19	6	Beyblade	15.00 €	
20	4	BARBIE	25.00 €	
21	8	Hot Wheels	1.25 €	
22	25	Bicicleta de niño/niña	125.00 €	
23	13	Bebe Llorones	45.96 €	
24				
25	Escribe aquí la fórmula del total de la compra			