


NUMERI PRECEDENTI E SUCCESSIVI


Aiuta Mara e Francesco a completare le tabelle mettendo il numero precedente ed il successivo nelle colonne.



PRECEDENTE		SUCCESSIVO
	37	
	59	
	88	
	94	
	42	
	28	
	75	



PRECEDENTE		SUCCESSIVO
	65	
	44	
	69	
	72	
	15	
	24	
	92	



PRECEDENTE		SUCCESSIVO
	36	
	79	
	48	
	24	
	11	
	7	
	55	

SCRIVI IL NUMERO CHE VIENE PRIMA E DOPO I NUMERI SCRITTI.

PRECEDENTE	NUMERO	SUCCESSIVO
	145	
	376	
	640	
	777	
	815	
	900	
	580	

Metti il segno tra i due numeri : *< minore, > maggiore, = uguale*


100.....123	136.....136	140.....152
230.....135	112.....112	300.....290
141.....113	200.....209	145.....100

COMPLETA LA TABELLA INSERENDO IL NUMERO PRECEDENTE E SUCCESSIVO


PRECEDENTE	NUMERO	SUCCESSIVO
	67	
	124	
	345	
	678	
	777	
	900	
	899	

NUMERANDO...


Numera per 4 da 4 a 48.




Numera per 5 da 5 a 60.



Numera per 6 da 6 a 66.



Numera per 7 da 7 a 84.



RICORDA: IL PUNTINO SI LEGGE **MILA**. (ES. 2.520---DUE**MILA**CINQUECENTOVENTI)
 SE INVECE C'E' L'UNO COME PRIMA CIFRA, ALLORA SI LEGGE **MILLE**. (ES. 1.060 ---**MILLE**SESSANTA)

F. Scomponi il numero indicato in cifre, nelle case.
 Scrivilo anche a parole, sotto le case.

Casa delle migliaia			Casa delle unità semplici		
hK	daK	uK	h	da	u
		4	3	0	0

4.300 *quattromilatrecento*

Casa delle migliaia			Casa delle unità semplici		
hK	daK	uK	h	da	u

3.200 _____

Casa delle migliaia			Casa delle unità semplici		
hK	daK	uK	h	da	u

2.510 _____

Casa delle migliaia			Casa delle unità semplici		
hK	daK	uK	h	da	u

6.035 _____

Casa delle migliaia			Casa delle unità semplici		
hK	daK	uK	h	da	u

4.007 _____

Casa delle migliaia			Casa delle unità semplici		
hK	daK	uK	h	da	u

8.042 _____

Casa delle migliaia			Casa delle unità semplici		
hK	daK	uK	h	da	u

9.106 _____

Casa delle migliaia			Casa delle unità semplici		
hK	daK	uK	h	da	u

1.039 _____

Casa delle migliaia			Casa delle unità semplici		
hK	daK	uK	h	da	u

5.680 _____

Casa delle migliaia			Casa delle unità semplici		
hK	daK	uK	h	da	u

7.403 _____

Casa delle migliaia			Casa delle unità semplici		
hK	daK	uK	h	da	u

6.004 _____

Casa delle migliaia			Casa delle unità semplici		
hK	daK	uK	h	da	u

1.068 _____