

التقييم ختامي

نشاط ختامي - متميز

أجزاء المثلثات المتشابهة

تولج
التعلم

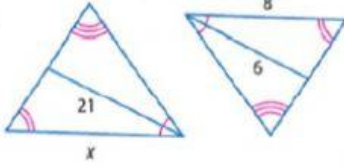
1. التعرف على علاقات التناسب بين منصفات الزوايا المتناظرة

وارتفاعات ومتوسطات المثلثات المتشابهة واستخدامها.

1000

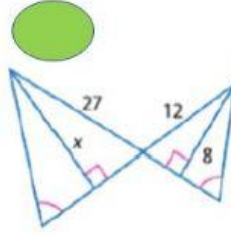


6.



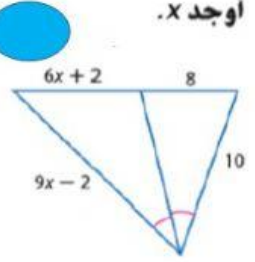
$$X =$$

9.



$$X =$$

21.



$$X =$$

Start 10 minutes

2/16/2021

LIVEWORKSHEETS