










Coloca el nombre de cada ángulo según la medida observada en la imagen (agudo, recto, obtuso, llano):

<p>Ángulo= _____</p> 	<p>Ángulo= _____</p> 	<p>Ángulo= _____</p> 
--	--	---

<p>Ángulo= _____</p> 	<p>Ángulo= _____</p> 	<p>Ángulo= _____</p> 
--	--	---

<p>Ángulo= _____</p> 	<p>Ángulo= _____</p> 	<p>Ángulo= _____</p> 
---	---	---

Indique el nombre de los ángulos según la medida escrita:

37°= _____	78°= _____	90°= _____
98°= _____	112°= _____	181°= _____
180°= _____		