

ALUMNO/A:	Nº: 4º:
ÁREA: Matemáticas	
FECHA:	NOTA:

1. Completa con (V o F).

- El número 28 es un número impar. _____
- El número 658.619 tiene 06 cifras. _____
- El número 34 termina en la cifra 4. _____
- La cifra de las decenas de millar del número 302.874 es 02 . _____

2. Completa la recta numérica :

12	16	30	4
6	14	19	3

0 30

3. Encuentra el número:

1) Es un número par.

2) Tiene cuatro cifras.

3) Las unidades de millar y las centenas son el resultado de 3×8 .

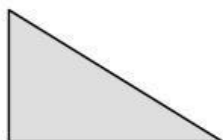
4) El doble de 3×8 es el resultado de las decenas y unidades.

El resultado es _____.

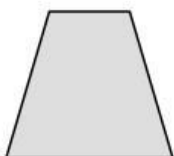
4. Une con flechas:

Polígonos:	Lados	Ángulos	Vértices
Triángulo	5	3	6
Pentágono	3	5	3
Hexágono	6	6	5

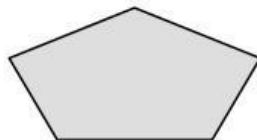
5. Escribe los nombres de los polígonos que faltan:



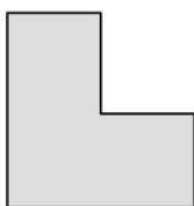
Triángulo

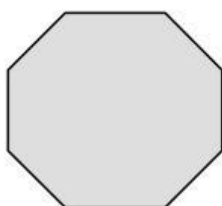


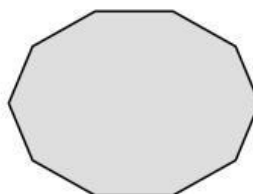
Cuadrilátero











Por ultimo dibuja una figura de 12 lados irregulares