



HAPPY CHILDREN SCHOOL  
ACUMULATIVA FINAL  
GRADO PRIMERO

NOMBRE:-

EL CIRCO DE LAS MATEMÁTICAS

Sumando ando

C	D	U
7	1	3
2	5	9
+		
=		

C	D	U
1	7	5
3	4	6
+		
=		

C	D	U
1	9	8
4	6	9
+		
=		

C	D	U
8	1	3
1	9	6
+		
=		

C	D	U
6	7	8
1	9	6
+		
=		






C	D	U
5	4	0
1	7	9
+		
=		

Lunes en casa



HAPPY CHILDREN SCHOOL  
ACUMULATIVA FINAL  
GRADO PRIMERO

*Coloca la hora de cada reloj*





HAPPY CHILDREN SCHOOL  
ACUMULATIVA FINAL  
GRADO PRIMERO

Resuelve los siguientes Problemas:

1. Jorge ha leído 325 páginas de un libro y le faltan por leer 242 páginas más. ¿Cuántas páginas tiene el libro?

DATOS:

He leído

Falta por leer

OPERACIÓN

C	D	U
<input type="text"/>	<input type="text"/>	<input type="text"/>
<input type="text"/>	<input type="text"/>	<input type="text"/>
<input type="text"/>	<input type="text"/>	<input type="text"/>

**Respuesta:** El libro tiene  páginas.

2. Saúl tiene 365 cuentos y su primo Andrés tiene 214 cuentos. ¿Cuántos cuentos tienen entre los dos?

DATOS:

Saúl tiene

cuentos

Andrés tiene

cuentos

OPERACIÓN

C	D	U
<input type="text"/>	<input type="text"/>	<input type="text"/>
<input type="text"/>	<input type="text"/>	<input type="text"/>
<input type="text"/>	<input type="text"/>	<input type="text"/>

**Respuesta:** Entre los dos tienen  cuentos.

3. Carolina caminó el lunes 187 pasos y el martes caminó 321 pasos. ¿Cuántos pasos caminó en total en esos dos días?

DATOS:

Lunes

pasos

Martes

pasos

OPERACIÓN

C	D	U
<input type="text"/>	<input type="text"/>	<input type="text"/>
<input type="text"/>	<input type="text"/>	<input type="text"/>
<input type="text"/>	<input type="text"/>	<input type="text"/>

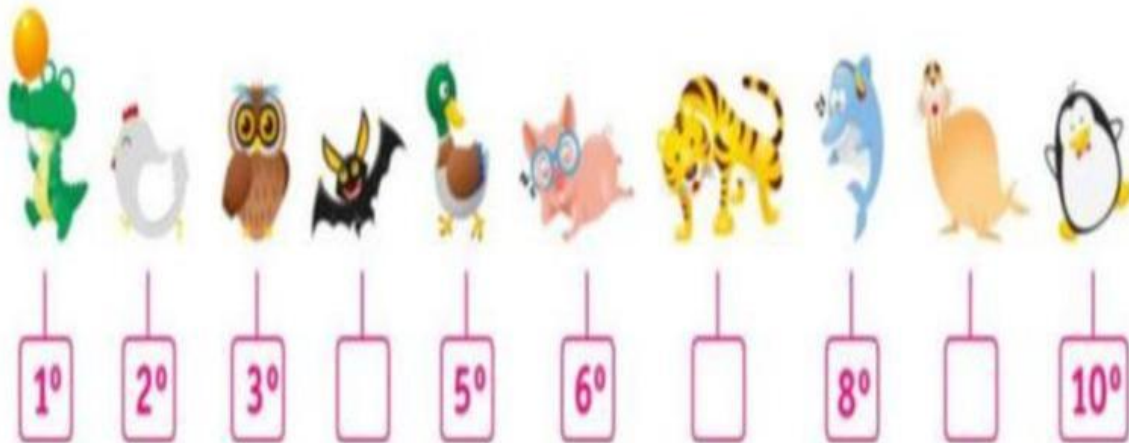
**Respuesta:** En total caminó  pasos.





HAPPY CHILDREN SCHOOL  
ACUMULATIVA FINAL  
GRADO PRIMERO

**Lee y escribe su posición según números ordinales.**



- a) El búho se encuentra en el..... lugar.
- b) El pato se encuentra en el..... lugar.
- c) El delfín se encuentra en el..... lugar.
- d) El tigre se encuentra en el..... lugar.
- e) El pingüino se encuentra en el..... lugar.
- f) El cocodrilo se encuentra en el..... lugar.
- g) El murciélago se encuentra en el..... lugar.



HAPPY CHILDREN SCHOOL  
ACUMULATIVA FINAL  
GRADO PRIMERO

*Subtrayendo...*

C	D	U
9	6	5
6	3	2
-		
=		



C	D	U
4	3	8
2	1	2
-		
=		



C	D	U
5	3	7
3	2	5
-		
=		

C	D	U
5	6	1
4	2	1
-		
=		

C	D	U
7	8	9
1	2	5
-		
=		



C	D	U
9	3	5
1	2	4
-		
=		





# HAPPY CHILDREN SCHOOL

## ACUMULATIVA FINAL



SEGUNDO GRADO DE PRIMARIA

### UNIDAD DE MILLAR

😊 Lee los nombres de los números y coloca el número que es. (Recuerda dejar el espacio entre la unidad de millar y la centena)

<b>Mil</b> quinientos ochenta y nueve	
<b>Dos mil</b> cuatrocientos noventa	
<b>Tres mil</b> ciento veinticuatro	
<b>Cuatro mil</b> seiscientos treinta y cinco	

😊 Observa los números y escribe su nombre correctamente:

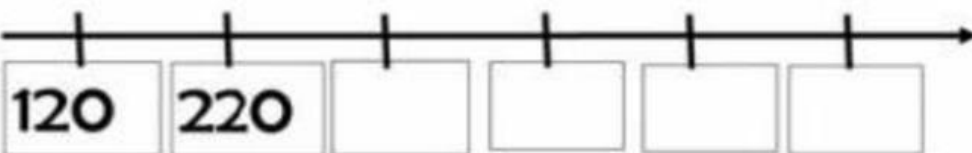
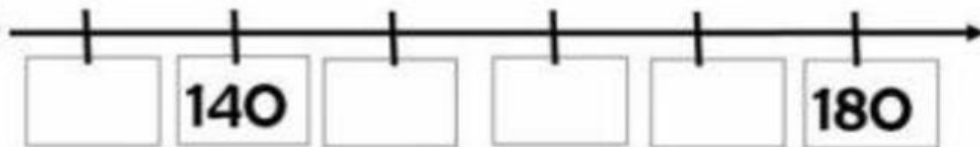
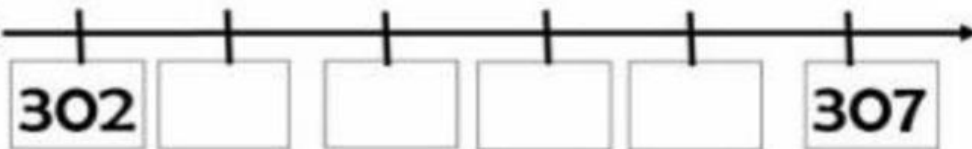

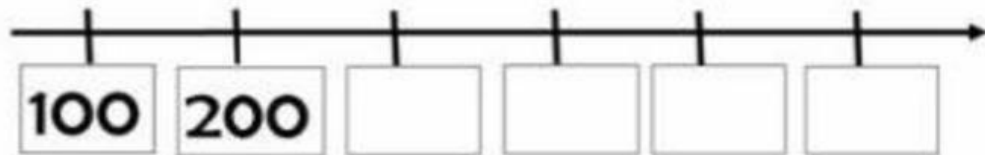
<b>1 364</b>	
<b>1 975</b>	
<b>2 683</b>	
<b>2 096</b>	
<b>3 507</b>	
<b>3 261</b>	
<b>4 839</b>	
<b>4 358</b>	
<b>1 412</b>	
<b>2 624</b>	
<b>5 000</b>	



HAPPY CHILDREN SCHOOL  
ACUMULATIVA FINAL  
GRADO PRIMERO

Números en la recta

Escribe los números que faltan en cada recta .



WATERPARKS.COM