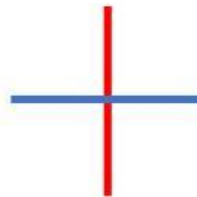


CLASIFICÁ ESTAS RECTAS







CLASIFICÁ ESTOS ÁNGULOS

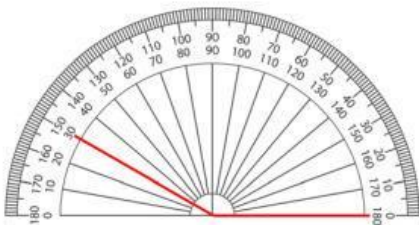


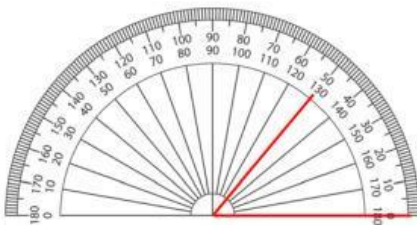


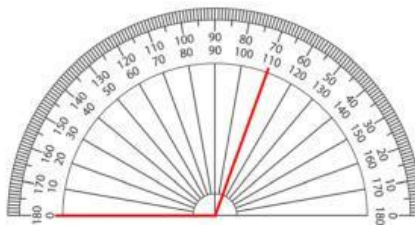


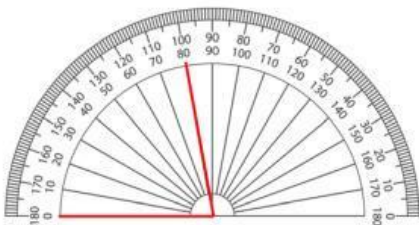


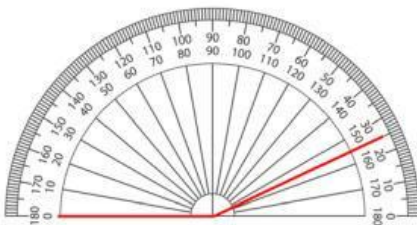
INDICÁ CUÁNTOS GRADOS TIENE CADA ÁNGULO Y QUÉ TIPO DE ÁNGULO ES

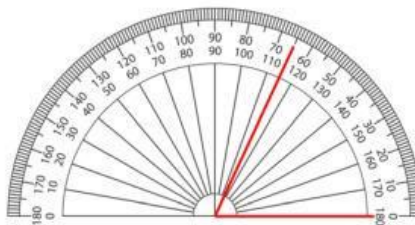




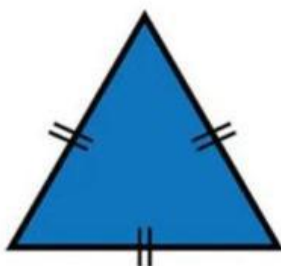









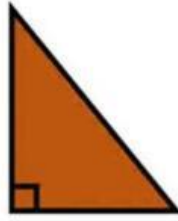

CLASIFICA ESTOS TRIÁNGULOS SEGÚN SUS LADOS







CLASIFICA ESTOS TRIÁNGULOS SEGÚN SUS ÁNGULOS



COMPLETÁ CADA FRASE CON LA RESPUESTA CORRECTA

EN UN TRIÁNGULO RECTÁNGULO

EN UN TRIÁNGULO ACUTÁNGULO

EN UN TRIÁNGULO EQUILÁTERO

EN UN TRIÁNGULO ISÓSCELES

EN UN TRIÁNGULO OBTUSÁNGULO

EN UN TRIÁNGULO ESCALENO

RESOLVÉ ESTOS CÁLCULOS

| | | | | | | |
|-------|---|---|---|---|---|---|
| | 1 | 5 | 6 | 7 | 8 | 9 |
| + | 1 | 7 | 6 | 2 | 1 | 8 |
| <hr/> | | | | | | |

| | | | | |
|-------|---|---|---|---|
| | 6 | 8 | 3 | 8 |
| | | | X | 9 |
| <hr/> | | | | |