

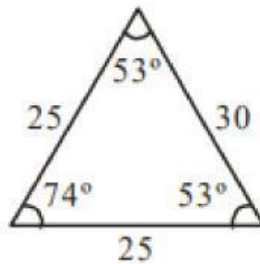
Nombre y Apellido: _____

Ejercicios de Perímetros

¡Resolvamos!

1. Halle el perímetro del siguiente gráfico: (4 pts)

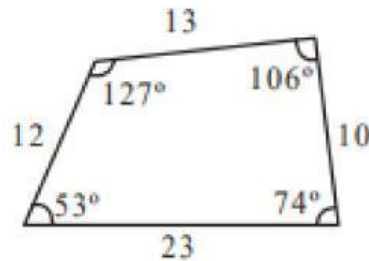
- a) 60
- b) 70
- c) 80
- d) 90
- e) 100



¡Resolvamos!

2. Halle el perímetro del siguiente gráfico: (4 pts)

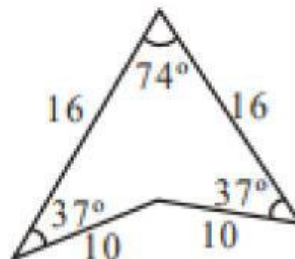
- a) 60
- b) 58
- c) 56
- d) 54
- e) 52



¡Resolvamos!

3. Halle el perímetro del siguiente gráfico: (4 pts)

- a) 52
- b) 54
- c) 56
- d) 58
- e) 60



Nombre y Apellido: _____

¡Resolvamos!

4. Hallar el perímetro de un cuadrado cuyo lado es 7 cm. (4 pts)

- a) 22 cm
- b) 26 cm
- c) 28 cm
- d) 32 cm
- e) 38 cm

¡Resolvamos!

5. El perímetro de un decágono regular es 140 cm. Calcula uno de sus lados. (4 pts)

- a) 12 cm
- b) 14 cm
- c) 16 cm
- d) 18 cm
- e) 20 cm

