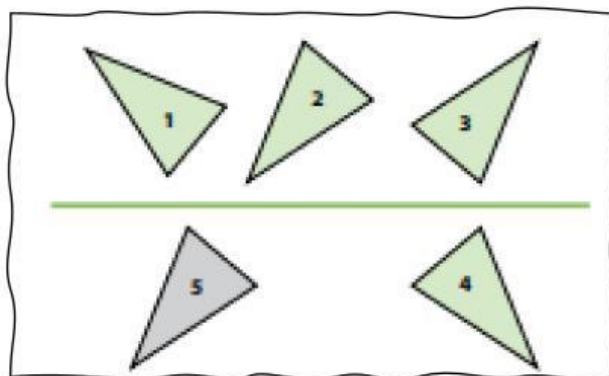


Nombre y Apellido: _____

Traslación

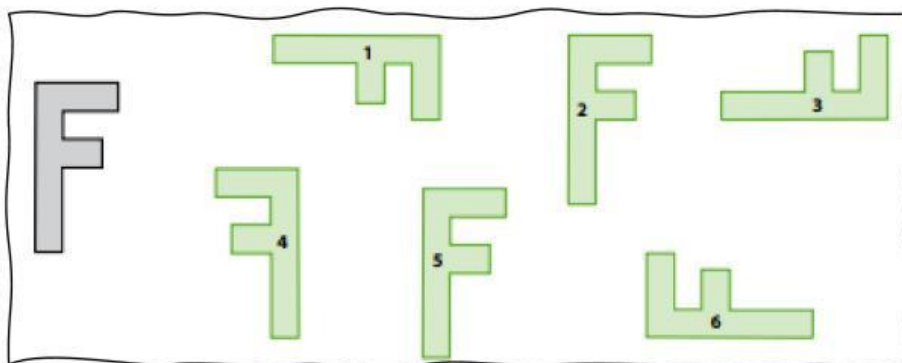
¡Resolvemos!

1. Los triángulos 1, 2, 3 y 4 se obtuvieron a partir de movimientos del triángulo 5. ¿Cuál de ellos es una traslación del triángulo 5? (5 pts.)



¡Resolvemos!

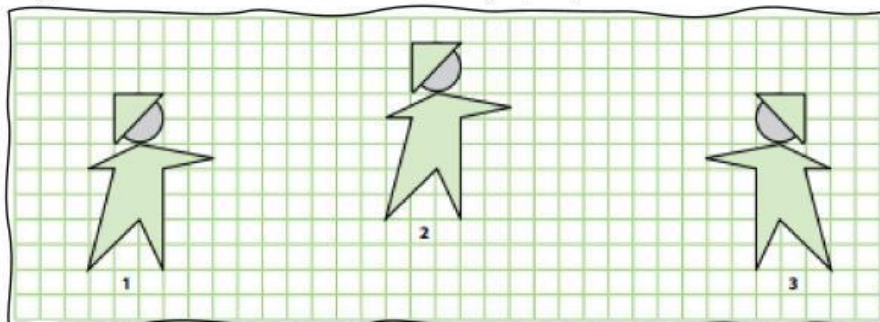
2. A la F de la izquierda, se le han aplicado distintos movimientos formándose las figuras 1, 2, 3, 4, 5 y 6. ¿Cuál o cuáles figuras son una traslación de la F original? (5 pts.)



Nombre y Apellido: _____

¡Resolvemos!

3. ¿Cuál par de figuras es una traslación de otra? (5 pts.)



¡Resolvemos!

4. Observa la siguiente imagen, la cual posee un eje de simetría, ¿Cuál de las siguientes es una imagen simetría de la figura anterior? Marca (5 pts.)

