

















Nome: _____ N.º _____
Turma: _____ Ano de escolaridade: _____ Data: ____ / ____ / ____

1. Vamos somar.

 +  = 3	 +  =
<input type="text" value="2"/> + <input type="text" value="1"/> = 3	<input type="text"/> <input type="text"/> =

 +  =	 +  =
<input type="text"/> <input type="text"/> =	<input type="text"/> <input type="text"/> =

 +  =	 +  =
<input type="text"/> <input type="text"/> =	<input type="text"/> <input type="text"/> =

 $+$  $=$	 $+$  $=$
<input type="text"/> <input type="text"/> $=$	<input type="text"/> <input type="text"/> $=$

2. Faz a respetiva correspondência.

2+3		7
5+1		5
6+1		6