





















Nome: _____ N.º _____
Turma: _____ Ano de escolaridade: _____ Data: ____ / ____ / ____

1. De acordo com o número de objetos, seleciona a quantidade.

	<div data-bbox="839 667 948 779">2</div> <div data-bbox="1018 667 1126 779">5</div> <div data-bbox="1190 667 1299 779">6</div>
	<div data-bbox="845 1137 954 1249">1</div> <div data-bbox="1021 1137 1129 1249">4</div> <div data-bbox="1187 1137 1295 1249">8</div>
	<div data-bbox="839 1621 948 1733">2</div> <div data-bbox="1018 1621 1126 1733">3</div> <div data-bbox="1184 1621 1292 1733">4</div>

    	<div>1</div> <div>2</div> <div>5</div>
      	<div>6</div> <div>7</div> <div>8</div>
  	<div>3</div> <div>4</div> <div>5</div>
	<div>1</div> <div>2</div> <div>3</div>
 	<div>1</div> <div>2</div> <div>3</div>