

Nombre y Apellido: _____

Resolvemos Problemas de Cambio

¡Completamos!

1. Rosita va a librería y ve la siguiente lista de precios. Responde correctamente las preguntas (6 pts)

Lapicero	S/. 2.50	¿Cuánto debe pagar?, si lleva :
goma	S/. 3.50	3 lapiceros : _____
cuaderno	S/. 4.00	4 cuadernos : _____
papel lustre	S/. 0.50	5 pliegos de papel lustre: _____
regla	S/. 1.50	2 lápices : _____
borrador	S/. 2.00	TOTAL : _____
lápiz	S/. 1.00	Rosita pagará en total _____

¡Resolvemos!

2. Resuelve los siguientes problemas (6 pts)

Si pagué con un billete de 100 nuevos soles y recibí de vuelto S/.12,70. ¿Cuánto es lo que gasté?

Si el metro de tela está S/. 3,80 y necesito 2 m y medio de tela para hacer una sábana. ¿Cuánto gastaré en total? y ¿Cuánto recibiré de vuelto si pagué con un billete de S/.50,00 nuevos soles?

Nombre y Apellido: _____

¡Resolvemos!








3. Resolvemos las siguientes operaciones (4 pts)

¿Cuánto recibiré de liquidación, sabiendo que es un sueldo completo por cada año que trabajé y yo he trabajado 6 años ganando S/.1 200 nuevos soles al mes?

Si el abuelo de Karla recibe una pensión mensual por jubilación de S/.680 nuevos soles. ¿Cuánto recibirá en total por un periodo de 2 años?

¡Completamos!

4. Completamos el cuadro indicando mediante números la cantidad faltante (4 pts)

Lo que quiero comprar	Dinero que tengo	Dinero que me falta
 <p>S/.120</p>		
 <p>S/.185</p>		
 <p>S/.98</p>		
 <p>S/.274</p>	