
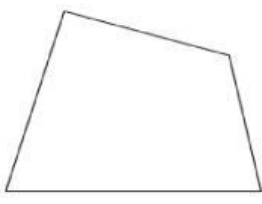
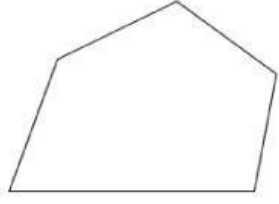
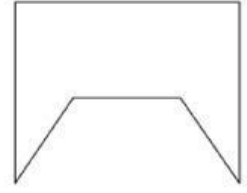

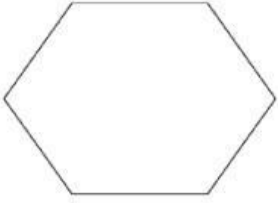
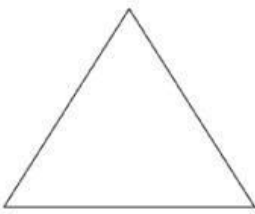




Nombre y Apellido: \_\_\_\_\_

## Los Polígonos

### ¡Completamos!

1. Escribe el nombre de cada polígono según el número de lados (6 pts)

### ¡Completamos!

2. Indica el nombre del polígono correspondiente (14 pts)

3 lados _____	4 lados _____
5 lados _____	6 lados _____
7 lados _____	8 lados _____
9 lados _____	10 lados _____
11 lados _____	12 lados _____
14 lados _____	15 lados _____
20 lados _____	24 lados _____