


LKPD

Perhatikan Video berikut ini



Perhatikan materi berikut



SOAL PILIHAN GANDA

Perhatikan gambar dibawah ini!



Gambar di atas merupakan bentuk dari bangun ruang...

Prisma segitiga

Limas segitiga


Limas segiempat

Prisma segiempat

SOAL ISIAN SINGKAT

Segitiga yang salah satu sudutnya 90^0 disebut dengan segitiga...

SOAL DROP DOWN



SOAL CHECK BOX

Yang merupakan contoh dari bangun ruang sisi datar adalah

Prisma

Tabung

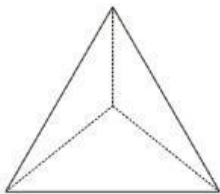
Bola

Balok

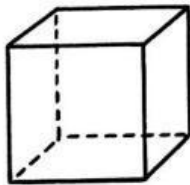
Kubus

Kerucut

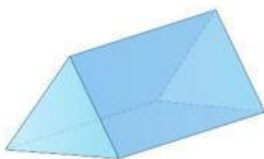
SOAL JOIN ARROW



Prisma






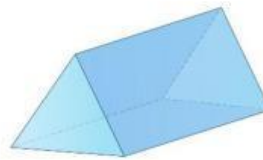
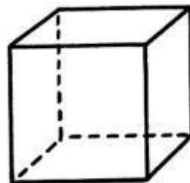
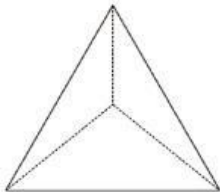
Limas



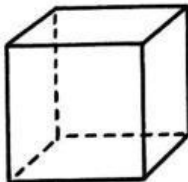
Kubus

SOAL DRAG AND DROP

Pindahkan bangun ruang dibawah ini kekotak yang tepat sesuai nama bangun ruang masing-masing!



SOAL LISTENING



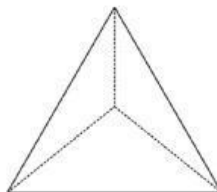
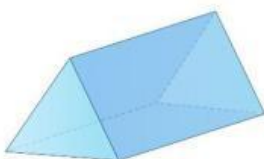
Kubus

Balok

Kubus

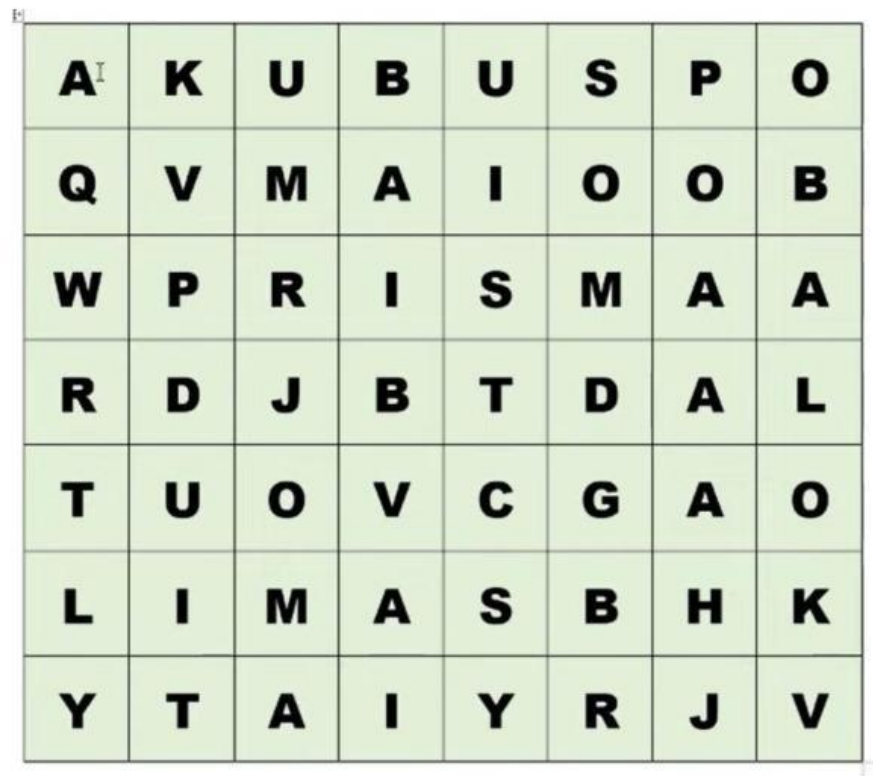
Balok

SOAL SPEKING



SOAL WORD SEARCH

Cari kata : Kubus, Balok, Prisma, dan Limas



Tuliskan yang kamu ketahui tentang bangun datar

--