

Tipos de fracciones

Ejercicio 1: Completa las frases

- a) Una fracción representa _____
- b) Las fracciones propias tienen _____
- c) Las fracciones propias representan _____
- d) Las fracciones impropias tienen _____
- e) Las fracciones impropias representan _____
- f) Las fracciones unidad tienen _____
- g) Las fracciones unidad representan _____

Ejercicio 2: Une cada fracción con su dibujo. Clasifícalas y escribe cómo se leen

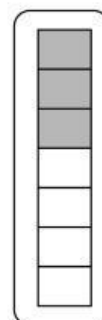
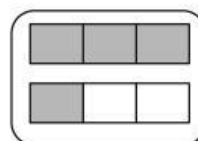
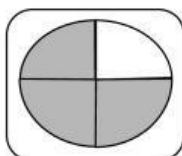

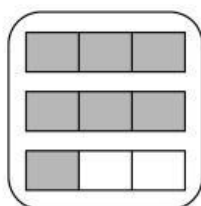
$$\frac{3}{4}$$

$$\frac{7}{3}$$

$$\frac{5}{5}$$

$$\frac{3}{7}$$

$$\frac{4}{3}$$



Fracción	Tipo	Cómo se lee
$\frac{3}{4}$		
$\frac{7}{3}$		
$\frac{5}{5}$		
$\frac{3}{7}$		
$\frac{4}{3}$		