



Merdeka Mengajar PPG | **prajabatan**

LEMBAR KERJA PESERTA DIDIK

2023

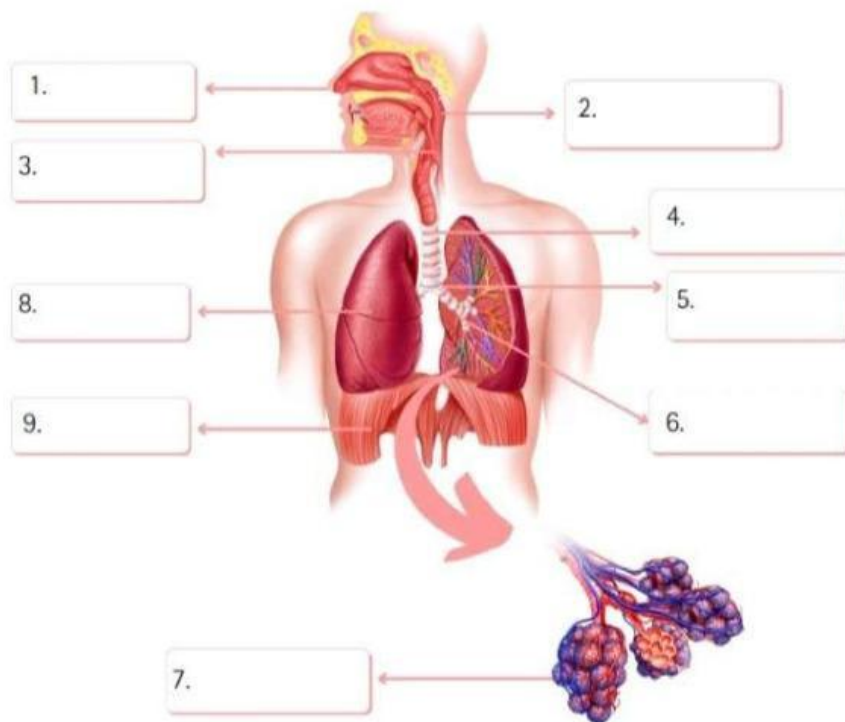
# SISTEM PERNAPASAN



Disusun Oleh :  
**MAHASISWA PPG  
PRAJABATAN 2023\_IPA-06**

# MULAI DARI DIRI

## Struktur dan Organ Pernapasan



Coba kalian sebutkan organ pernapasan yang ditunjukkan oleh nomor tersebut



# Orientasi Masalah



Silahkan rentangkan  
kedua tangan kalian

**Tarik Napas  
dan Keluarkan**

Apakah yang terjadi ketika kalian menghirup udara?

Apakah yang terjadi ketika kalian melepaskan udara  
dari paru - paru?

Bagaimana mekanisme bernapas?

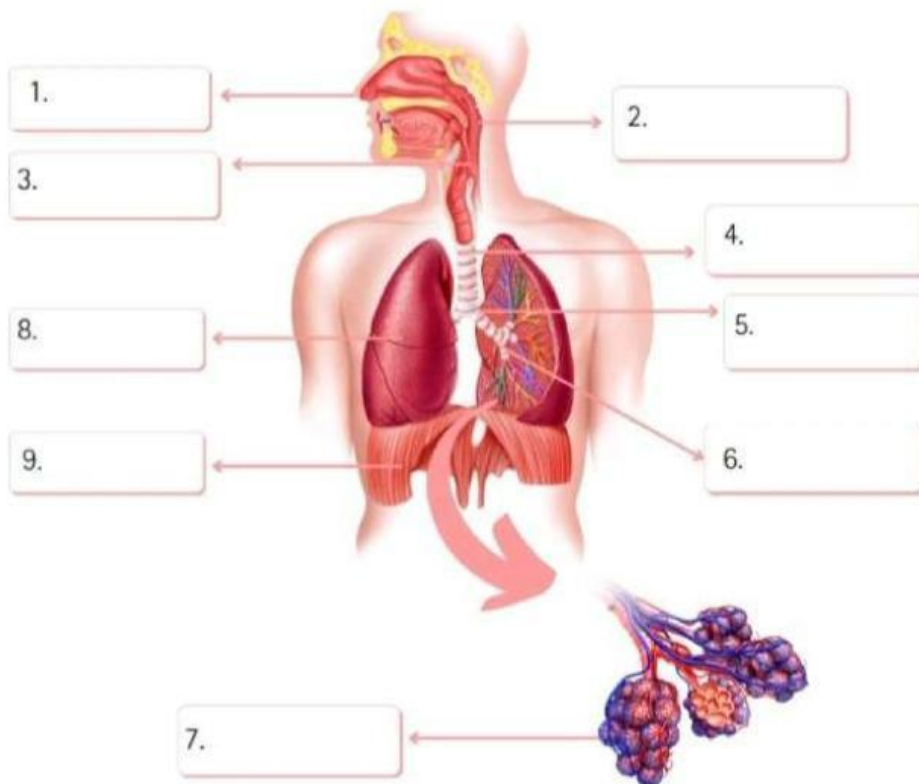
Bagian organ manakah yang ikut berinteraksi pada kegiatan  
inspirasi dan ekspirasi?




# RUANG DISKUSI

Mari menyebutkan bagian-bagian organ pernapasan bersama kelompok kalian

Struktur dan Organ Pernapasan



dan tuliskan fungsinya pada lembar berikutnya 

# FUNGSI

## ORGAN PERNAPASAN

**Hidung**



**Faring**



**Laring**




**Trakea**



**Bronkus**



**Bronkiolus**



**Paru-paru**



# MEKANISME PERNAPASAN

