


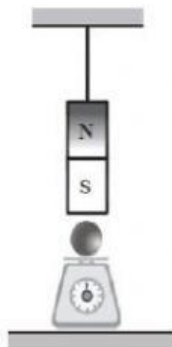
- 1.- Indique en cuál de los casos la lectura en la balanza disminuye con respecto a la lectura inicial.



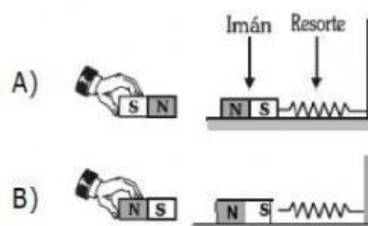
i)



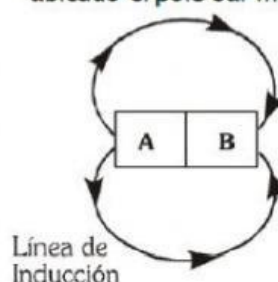
ii)



- 2.- ¿En cuál de los casos el resorte se encuentra estirado?



- 3.- Según el gráfico, en cuál de los puntos se encuentra ubicado el polo sur magnético.



- A) A
B) B
C) A o B
D) no se puede identificar
E) no tiene polos magnéticos

- 4.- Indique verdadero (V) o falso (F) según corresponda:

- I) Imanes de polos iguales se repelen ()
II) Imanes de polos diferentes se atraen ()
III) Los polos magnéticos se pueden separar por algún método..... ()

Mueva la brújula sobre el hueco que corresponde a la definición correcta.



La brújula es un instrumento formado por una aguja sin imantar que gira sin libertad sobre un eje y que se alinea siempre en la dirección Norte-Sur.



La brújula es un instrumento formado por una aguja imantada que gira sin libertad sobre un eje y que se alinea siempre en la dirección Norte-Sur.



La brújula es un instrumento formado por una aguja imantada que gira con libertad sobre un eje y que se alinea siempre en la dirección Norte-Sur.



La brújula es un instrumento formado por una aguja imantada que gira con libertad sobre un eje y que se alinea siempre en la dirección Sur-Norte.

¿Qué materiales se utilizan en el video para construir un electroimán?

- a) Madera, pila y alambre de cobre
- b) Alambre de cobre, pila y clavo
- c) Pila, clavo y estambre
- d) Todo lo anterior

¿Qué propiedad posee el clavo una vez enrollado en el cable y al conectarse esté a la pila?

- a) Energía
- b) Presión
- c) Fuerza
- d) Magnetismo

¿Qué se demuestra con el experimento del electroimán?

- a) Genera un campo magnético de forma circular
- b) Genera un campo eléctrico de forma circular
- c) Genera un campo de presión de forma circular
- d) Genera fuerza y presión en forma circular

¿Qué sucede con la brújula cuando se acerca al alambre desconectado?

- a) Se desvía la aguja
- b) Se mueve a 360° es decir da un giro completo
- c) Se queda quieta
- d) No pasa nada

¿Cómo se comporta la aguja cuando se coloca la brújula debajo del cable y conecta esté a la pila?

- a) Se desvía la aguja
- b) Se mueve a 360° es decir da un giro completo
- c) Se queda quieta
- d) No pasa nada

¿Qué demuestra Oersted con este experimento?

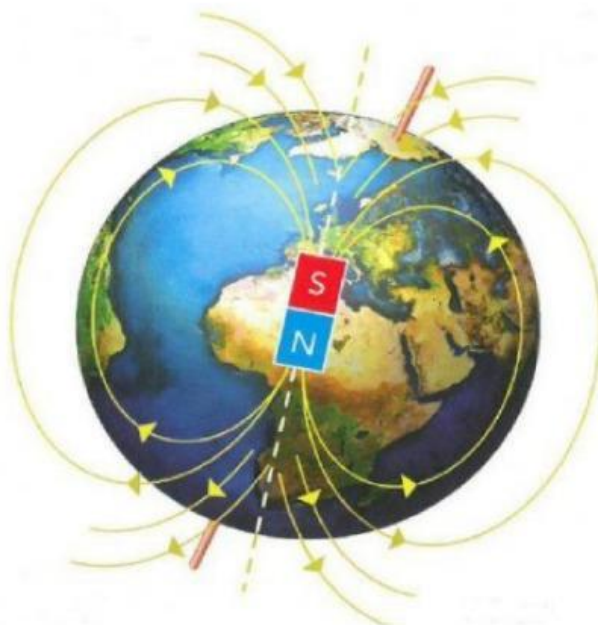
- a) La relación entre la electricidad y presión
- b) La relación entre la electricidad y la fuerza
- c) La relación entre el magnetismo y la fuerza
- d) La relación entre la electricidad y el magnetismo

Responder Verdadero o Falso a los siguientes enunciados sobre la historia del magnetismo

- a) Un campo magnético produce energía eléctrica.
- b) Electricidad + magnetismo = polimagnetismo
- c) En el siglo XXI se descubre que el magnetismo y la electricidad están relacionados
- d) Un campo magnético cambiante produce energía eléctrica.



Arrastra cada polo a su posición del esquema:



**POLO NORTE
GEOGRÁFICO**

**POLO NORTE
MAGNÉTICO**

**POLO SUR
MAGNÉTICO**

**POLO SUR
GEOGRÁFICO**

