






















Nombre y Apellido: _____

Pictogramas

¡Resolvemos!

1. Según la tabla responde las siguientes preguntas (15 pts)

Mes	Conteo	N° de pelotas
Noviembre	    	$5 \times 100 = 500$
Diciembre	         	$10 \times 100 = 1000$
Enero	 	$2 \times 100 = 200$
Febrero	   	$4 \times 100 = 400$

- ¿Cuántas pelotas más se vendieron en diciembre que en febrero?

- ¿Cuántas pelotas se vendieron en total?

- ¿En qué meses se vendieron más pelotas?


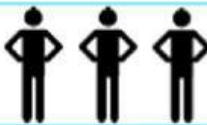








- ¿Cuántas pelotas menos se vendieron en enero que en diciembre?

- ¿Cuántas pelotas se vendieron en los meses de enero y febrero?

Nombre y Apellido: _____

¡Completamos!

2. Según la tabla responde las siguientes preguntas (5 pts)

 Oftalmología	
 Odontología	
 Cardiología	
 Pediatría	
 Dermatología	

- ¿Cuántos pacientes necesitan ir con el Oftalmólogo?

- ¿Qué doctor tendrá menos pacientes?

- ¿Cuántos pacientes más tendrá el Pediatra que el Odontólogo?

- ¿Cuántos pacientes tienen juntos el Dermatólogo y el Cardiólogo?

- ¿Cuántos pacientes menos tiene el Cardiólogo que el Odontólogo?
