

Colegio Madrid
Evaluación de PDA, Primer Trimestre
Ética, naturaleza y sociedad

Fecha: _____ de noviembre del 2023. **Grupo:** 5°

Nombre: _____ **N.L.:** _____

- 1) ¿En qué fecha Miguel Hidalgo inició la Guerra de Independencia?
- 2) ¿Qué personaje de la Independencia de México decretó la abolición de la esclavitud?
- 3) ¿Cuáles fueron las principales causas del inicio del movimiento de Independencia? (*Selecciona las opciones que consideres correctas.*)
 - Pensamiento ilustrado.
 - Plan de Iguala.
 - Desigualdad social.
 - Nacionalismo Criollo.
 - Abolición de la esclavitud.
 - Plan de Ayutla.
 - Invasión de Napoleón a España,
 - Tratados de Córdoba.
- 4) ¿Cuál era una de las principales propuestas de la ilustración?
- 5) ¿Qué fue el nacionalismo criollo?
- 6) ¿Qué personajes participaron en la conspiración de Querétaro? (*Selecciona las opciones que consideres correctas.*)
 - Ignacio Allende
 - Agustín de Iturbide
 - Josefa Ortiz de Domínguez
 - Miguel Domínguez
 - Porfirio Díaz
 - Benito Juárez
 - Miguel Hidalgo
- 7) ¿Qué sucedió cuando el ejército insurgente llegó a Guanajuato?
- 8) Al morir Hidalgo, ¿quién continuó la lucha por la Independencia?

9) ¿Cuál de las siguientes ideas formó parte del pensamiento de José María Morelos y Pavón?

10) ¿Cuáles fueron los principales puntos del "Sentimientos de la Nación"? (*Selecciona las opciones que consideres correctas.*)

- América debía ser libre e independiente de España.
- México debía tener un monarca como gobernador.
- Todos debían ser iguales ante la ley.
- La esclavitud y la distinción de castas debía prohibirse.
- Todos los hombres y mujeres debían tener un trabajo que les gustara.

11) ¿Quiénes continuaron con la lucha después de la muerte de Morelos? (*Selecciona las opciones que consideres correctas.*)

- Guadalupe Victoria.
- Juan Aldama.
- Miguel Hidalgo.
- Vicente Guerrero
- Benito Juárez

12) ¿Por qué algunos españoles se unieron a la lucha independentista casi al final?

13) Anota el número que consideres correcto para que refleje el orden correcto de los diferentes momentos del movimiento de Independencia encabezados por diferentes líderes.

- | | |
|---------------------------------------|---|
| • Guerrillas en diferentes regiones. | • Movimiento encabezado por Iturbide en alianza con Guerrero. |
| • Movimiento de Hidalgo. | • Movimiento de Morelos. |
| • Guerrilla de Francisco Javier Mina. | • Conspiraciones en varias partes de Nueva España. |

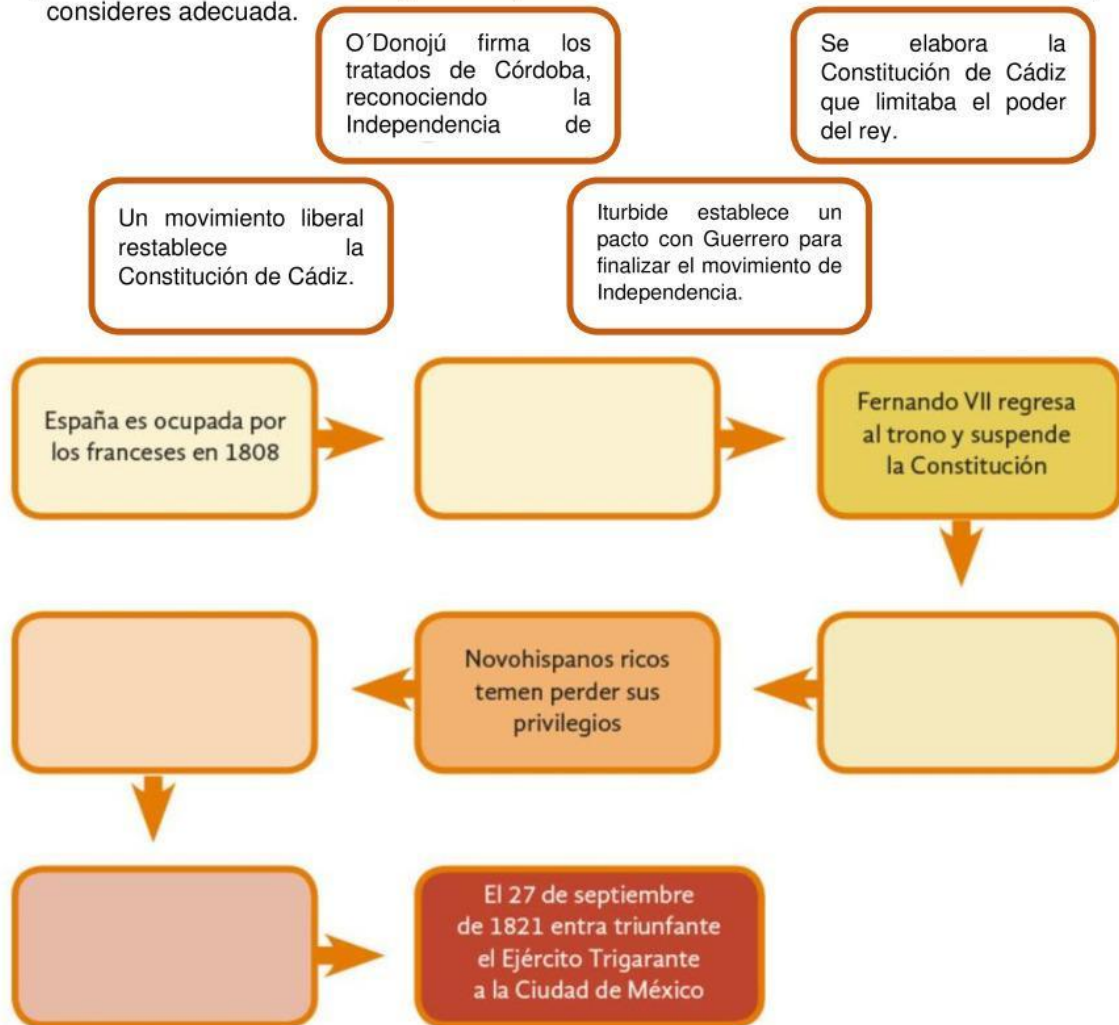
14) ¿Cuáles consideras que fueron las causas que llevaron a la consumación de la Independencia? (*Selecciona las opciones que consideres correctas.*)

- Igualdad entre españoles y americanos establecida en la Constitución de Cádiz.
- Abolición de la esclavitud y del pago de tributos.
- Invasión napoleónica a España en 1808.
- Alianza de los realistas con los insurgentes para conservar sus privilegios.
- Firma de los tratados de Córdoba.

15) ¿En qué fecha entró el ejército Trigarante a la Ciudad de México para celebrar el término de la Guerra de Independencia?



16) Completa el esquema cronológicamente; arrastra al recuadro correcto con la información que consideres adecuada.



20) Selecciona las palabras que completen el texto.

Nuestro planeta gira en dirección de _____ a _____,
sobre un eje imaginario, llamado _____, que está inclinado y lo atraviesa
de polo a polo. Este movimiento se desarrolla en 23 horas, 56 minutos y 41 segundos y provoca
la alternancia del _____ y la _____.

25) El párrafo anterior es la definición del movimiento de: _____.



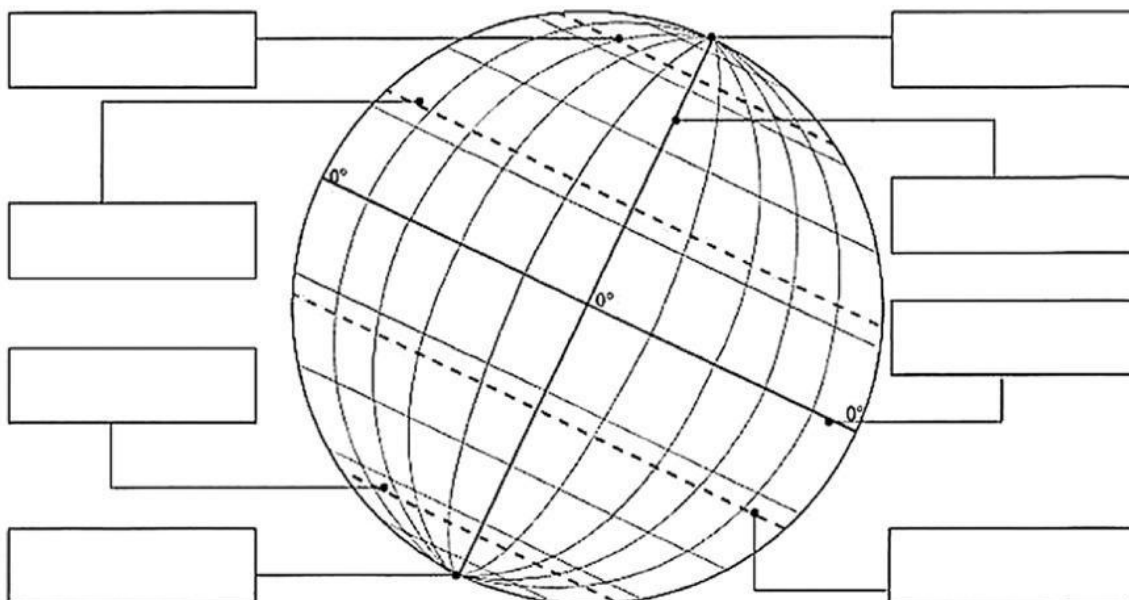
26) Encuentra las palabras:

- ecuador
- meridianos
- paralelos
- polos
- trópicos

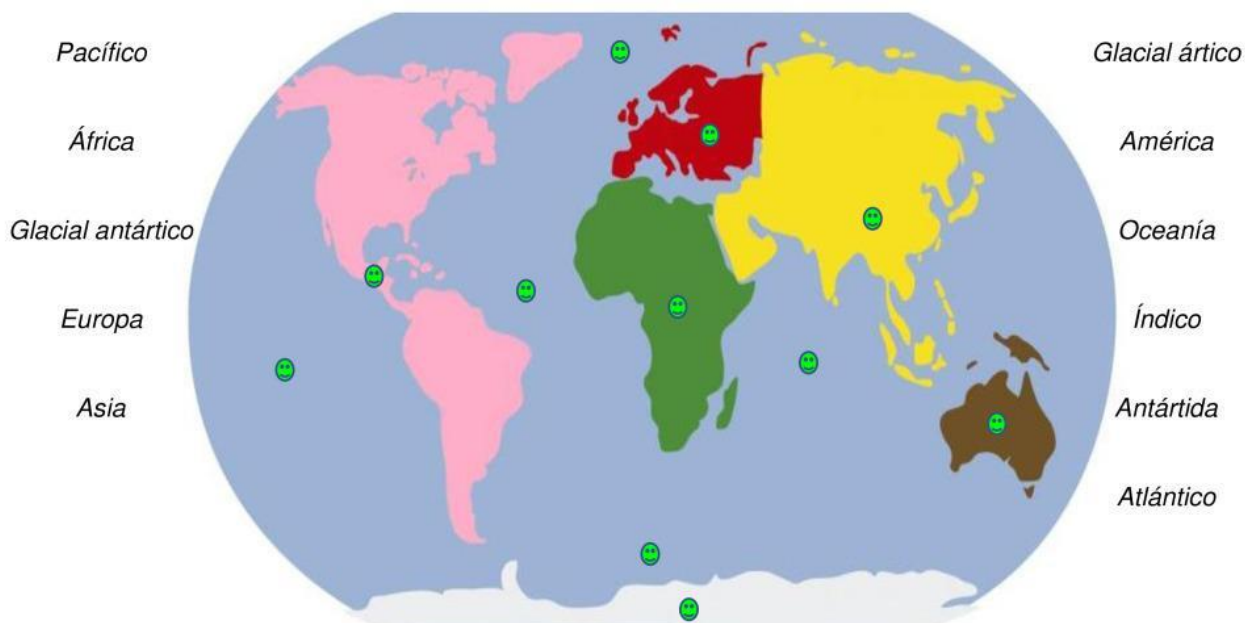
K	N	P	A	R	A	L	E	L	O	S
P	B	L	V	R	K	C	G	J	H	H
V	E	C	U	A	D	O	R	C	Y	R
F	M	E	R	I	D	I	A	N	O	S
J	N	R	R	P	O	L	O	S	Q	I
L	G	D	B	Z	J	S	T	V	N	P
V	G	Y	K	X	J	E	D	U	K	V
X	H	D	U	O	W	Q	I	V	O	C
T	R	Ó	P	I	C	O	S	K	F	C
L	R	V	D	Z	F	F	E	H	R	D
T	R	A	G	O	Z	L	S	M	Z	H

31) Arrastra las palabras dentro de los recuadros y colócalas en el lugar correcto para que señalen las líneas imaginarias de la Tierra en el esquema.

Eje terrestre	Trópico de Cáncer	Trópico de Capricornio	Ecuador
Polo Norte	Polo Sur	Círculo Polar Ártico	Círculo Polar Antártico



39) Une con una línea el nombre del océano o continente con su ubicación en el esquema.



49) Relaciona las columnas seleccionando el inciso que le corresponda.

- | | | |
|---|----------|---|
| a) Américo Vespucio | () | Es el segundo continente más grande del planeta. |
| b) Tercero más poblado. | () | América anglosajona, caribeño - latino y América latina. |
| c) División continental a nivel físico. | () | Continente americano. |
| d) División continental a nivel cultural. | () | América del norte, Centroamérica y América del sur. |
| e) América | () | Comerciante, cosmógrafo y explorador por el que recibe su nombre. |

54) Selecciona "verdadero" o "falso" para las siguientes afirmaciones.

- La asamblea es una herramienta que privilegia el diálogo y brinda la oportunidad de lograr una negociación armónica ante algún conflicto.
- Durante la asamblea no se asigna ningún cargo o puesto.
- El debate se sustenta en la argumentación.
- En caso de emergencia en el colegio lo primero que debes hacer es salir corriendo.
- Cuidarnos es una tarea que nos corresponde, pero también tenemos la posibilidad de solicitar la ayuda de otras personas para proteger nuestra integridad o defendernos cuando sea necesario.
- La inclusión es crear un entorno que promueva el sentido de pertenencia de una persona o grupo, de manera que se sienta apoyada, respetada y valorada; es un derecho que tenemos para que se considere y respete nuestras diferentes capacidades y necesidades.
- La discriminación es la base de la sana convivencia.