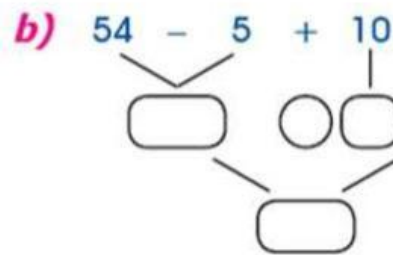
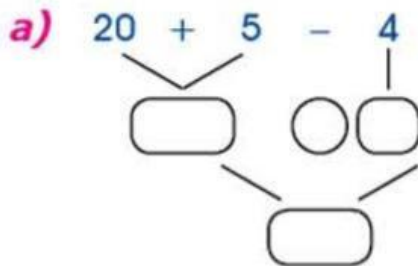


Nombre y Apellido: \_\_\_\_\_

## Operaciones Combinadas con Adición y Sustracción

### ¡Completamos!

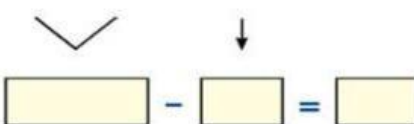
1. Escribe la hora que marca el reloj (4 pts)



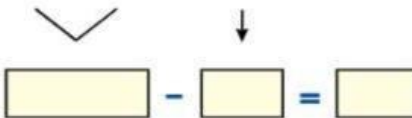
### ¡Completamos!

2. Resuelve las siguientes operaciones combinadas (8 pts)

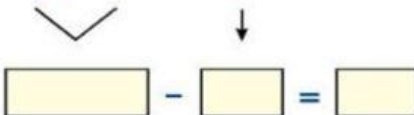
a)  $50 + 40 - 30$



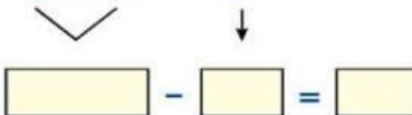
b)  $80 + 20 - 30$



c)  $38 + 4 - 9$



d)  $85 + 10 - 5$




Nombre y Apellido: \_\_\_\_\_

**¡Resolvemos!**

3. Resuelve las siguientes operaciones combinadas (4 pts)


a)  $15 - 5 + 45$

$\swarrow \quad \downarrow$

\_\_\_\_\_  \_\_\_\_\_ = \_\_\_\_\_

b)  $85 + 5 - 5$

$\swarrow \quad \downarrow$

\_\_\_\_\_  \_\_\_\_\_ = \_\_\_\_\_

**¡Resolvemos!**

4. Resuelve con atención las siguientes operaciones (4 pts)

1)  $300 - 100 + 550$

$\swarrow \quad \searrow$

\_\_\_\_\_ + 550 = \_\_\_\_\_

2)  $250 - 100 + 450$

$\swarrow \quad \searrow$

\_\_\_\_\_ + 450 = \_\_\_\_\_