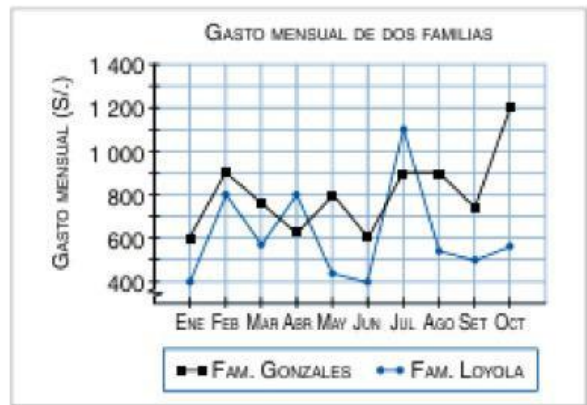


Gráficos Estadísticos



Selecciona la respuesta correcta:

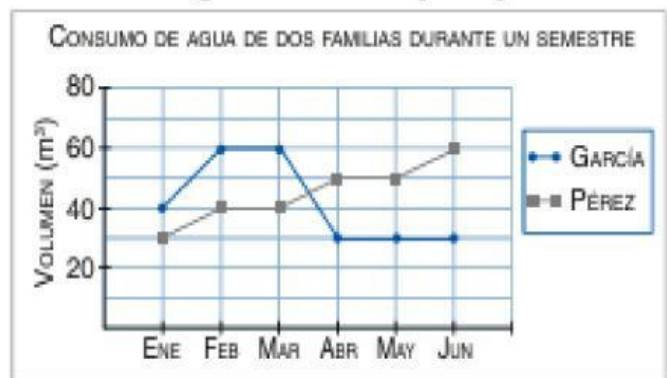
Se ha elaborado un gráfico de la variación del gasto mensual en dos familias.



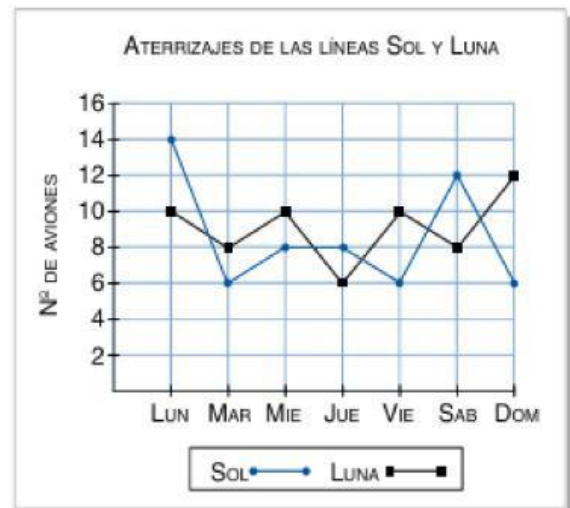
Responde de acuerdo a la gráfica.

- 1 ¿Qué familia tuvo un mayor gasto en octubre?
A) Quispe B) Gonzales
C) Loyola D) Ambas
- 2 ¿Cuánto gastó la familia Loyola en julio?
A) S/. 700 B) S/. 800
C) S/. 1 100 D) S/. 600
- 3 ¿En qué mes gastó más la familia Loyola?
A) Enero B) Junio
C) Julio D) Octubre

Observa el gráfico lineal y responde.



En el gráfico se representan los aterrizajes durante una semana.



- 4 ¿Cuántos aviones aterrizaron el lunes?
¿Y el sábado? _____
- 5 ¿Cuántos aviones de la línea Sol aterrizaron el martes menos que el sábado? _____
- 6 ¿Qué día aterrizaron más aviones?
¿Qué días hubieron menos aterrizajes?

- 7 ¿Qué día aterrizaron más aviones de la línea Sol que de la línea Luna? _____

- 8 ¿En qué mes o meses la familia García consumió más agua?
A) Febrero B) Febrero y marzo
C) Marzo D) Marzo y junio
- 9 ¿En qué mes la familia Pérez consumió menos agua?
A) Enero B) Marzo
C) Febrero D) Abril