


## LATIHAN SOAL IPA TEMA 7

PILIH LAH JAWABAN A, B, C, ATAU D YANG PALING BENAR!

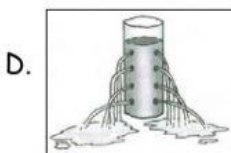

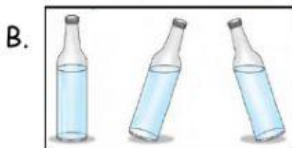
1. Berikut ini yang termasuk benda padat adalah ....
  - A. Piring, minyak goreng, garpu
  - B. Panci, garpu, uap air
  - C. Sirup, minyak goreng, kecap
  - D. Gelas, piring, sendok

2. Perhatikan gambar berikut!



Gambar di atas menunjukkan sifat benda cair, yaitu ....

- A. memiliki bentuk yang berubah-ubah mengikuti wadahnya
  - B. permukaan benda cair yang tenang selalu datar
  - C. mengalir dari tempat tinggi ke tempat rendah
  - D. dapat meresap melalui celah-celah kecil
3. Balon yang dijemur pada siang hari akan meletus karena karet balon tidak dapat menahan gas di dalamnya. Sebaliknya, pada malam hari ketika suhu dingin, balon akan mengempis. Hal tersebut menunjukkan sifat benda gas yaitu ....
    - A. dapat menyusut dan mengembang
    - B. tidak dapat dilihat, tetapi dapat dirasakan
    - C. menekan ke segala arah
    - D. memiliki bentuk dan volume yang tetap
  4. Ayah memindahkan air dari bak mandi ke ember dengan menggunakan gayung. Air yang ada di dalam ember berbentuk ....
    - A. bak mandi
    - B. ember
    - C. gayung
    - D. botol
  5. Gambar di bawah ini yang menunjukkan sifat benda cair dapat meresap melalui celah-celah kecil adalah ....



6. Membeku merupakan perubahan wujud benda ... menjadi ....
- padat - cair
  - cair - padat
  - gas - padat
  - cair - gas

7. Perhatikan gambar di bawah ini!



Munculnya titik-titik air pada gelas menunjukkan peristiwa perubahan wujud, yaitu ....

- mengembun
  - membeku
  - mencair
  - menyublim
8. Air yang dipanaskan di atas kompor terus-menerus akan berubah menjadi ....
- uap
  - es
  - embun
  - api
9. Bahan utama pada proses pembuatan garam adalah ....
- salju
  - air laut
  - air es
  - sinar matahari
10. Benda di bawah ini yang dapat menyublim adalah ....
- air
  - mentega
  - es krim
  - kapur barus

**JODOHKAN DENGAN CARA MENARIK GARIS !**

Tiga wujud benda
Contoh benda padat
Contoh benda cair
Contoh benda gas
Perubahan wujud benda padat menjadi cair
Perubahan wujud benda gas menjadi padat
Perubahan wujud benda cair menjadi gas
Perubahan wujud benda padat menjadi gas
Perubahan wujud benda gas menjadi cair
Perubahan wujud benda cair menjadi padat

mengkristal
menyublim
padat, cair, gas
meja
membeku
menguap
bensin
mengembun
mencair
uap air