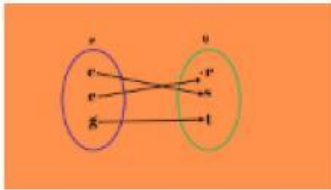


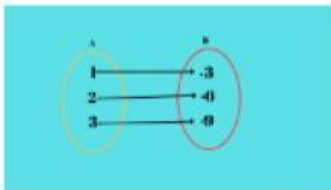
1.



Nyatakan jenis hubungan antara set P dan set Q

- A Satu kepada satu B Banyak kepada banyak
- C Satu kepada banyak D banyak kepada satu

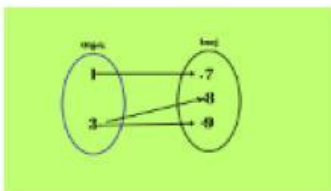
2.



Nyatakan Jenis Hubungan antara set A kepada set B

- A Banyak kepada Satu B Satu kepada Banyak
- C Satu kepada Satu D Banyak kepada Banyak

3.



Adakah hubungan ini Fungsi atau Bukan Fungsi

- A Bukan Fungsi B Fungsi

4. Pada pemetaan $\{(-2,3), (2,5), (-1,6), (4,2), (5,4)\}$ domainnya adalah....

- A $\{-3, -2, -1, 0, 1, 2, 3, 4, 5, 6\}$ B $\{2, 3, 4, 5, 6\}$
- C $\{0, 2, 3, 5, 6\}$ D $\{-2, -1, 2, 4, 5\}$
- E $\{-3, -1, 2, 3, 4, 5\}$

5. Input juga di kenali sebagai

- A Domain B Julat
- C Kodomain

6. Output juga di kenali sebagai

- A Domain B Julat
 C Kodomain

7. Hubungan berikut yang merupakan Fungsi adalah

- A Pelajar kepada rakan-rakannya B Pelajar kepada hobinya
 C Pelajar kepada Tarikh lahirnya D Pelajar kepada subjek kegemarannya