

Resolución de problemas.

Problemas creados por los alumnos y alumnas de 3º curso de Educación Primaria.

Claudia.

1. En la clase de Claudia hay 27 niños y niñas que se sientan en tres filas ¿Cuántos niños y niñas hay en cada fila?

DATOS	OPERACIÓN
ALUMNOS Y ALUMNAS= FILAS = RESULTADO = Hay.....niños y niñas en cada fila.	

Pablo

2. Pablo tiene 17 amigos y amigas y su hermana Leire tiene la mitad. ¿Cuántos amigos y amigas tiene su hermana Leire?

DATOS	OPERACIÓN
TOTAL AMIGOS Y AMIGAS= LEIRE: la mitad. RESULTADO= Su hermana tiene..... amigos y amigas.	

COLEGIO

VIRGEN DE GRACIA, GÁRGAR.

Resolución de problemas.

Leire.

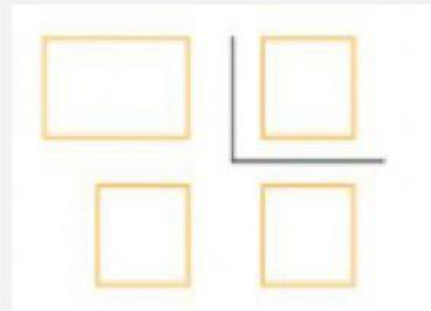
3. Leire tiene 18 estrellas de las cuales la mitad son rosas
¿Cuántas estrellas rosas tiene Leire?

DATOS

TOTAL ESTRELLAS=

ROSAS= La mitad

**RESULTADO = Leire tiene
estrellas rosas**



Marius

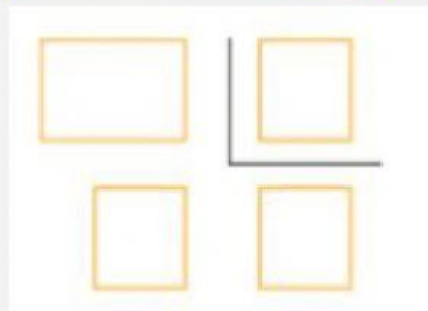
4. Marius tiene que repartir 32 frambuesas en 4 cajas
¿Cuántas frambuesas tiene que meter en cada caja?

DATOS

TOTAL FRAMBUESAS=

CAJAS=

**RESULTADO = Marius mete
frambuesas en cada caja.**



COLEGIO

VIRGEN DE GRACIA, GÁRGAR.

Resolución de problemas.

Asmae

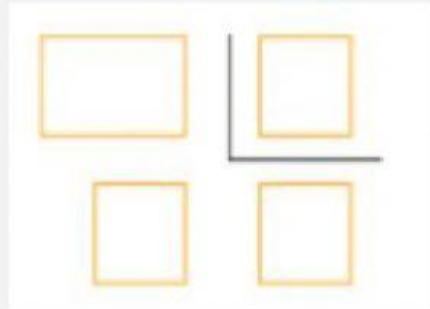
5. Asmae ha comprado 29 cerezas de las cuales un tercio son sin hueso. ¿Cuántas cerezas sin hueso ha comprado?

DATOS

TOTAL CEREZAS=

SIN HUESO: Un tercio.

**RESULTADO = Asmae ha comprado
cerezas sin hueso.**



Maruan

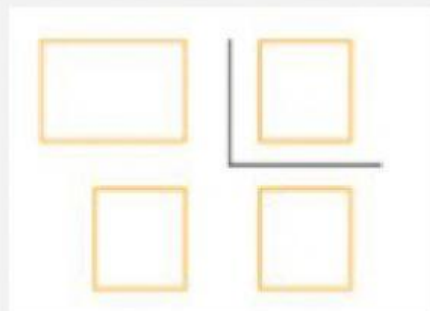
6. Maruan ha ganado 28 juguetes en una rifa. Decide darle a su hermano pequeño un cuarto del total. ¿Cuántos juguetes le regala Maruan a su hermano?

DATOS

JUGUETES=

HERMANO DE MARUAN: Un cuarto

**RESULTADO = Maruan le regala a su
hermano.....juguetes.**



COLEGIO

VIRGEN DE GRACIA, GÁRGAR.

Resolución de problemas.

Irati

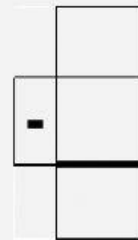
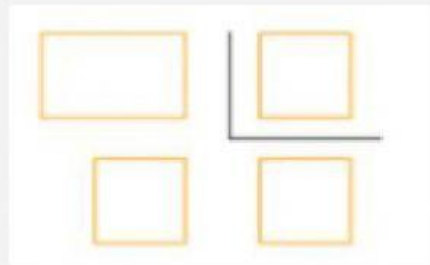
7. Irati tiene 16 caramelos y se come la mitad. ¿Cuántos caramelos le quedan?

DATOS

TOTAL CARAMELOS=

IRATI SE COME: **La mitad**

RESULTADO = Le quedan.....
caramelos.



Helena.

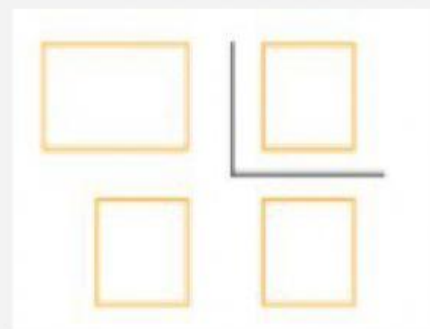
8. Helena tiene 27 canicas y un tercio son azules. ¿Cuántas canicas azules tiene Helena?

DATOS

TOTAL CANICAS=

AZULES: **Un tercio.**

RESULTADO = Helena tiene.....
canicas azules.



COLEGIO

VIRGEN DE GRACIA, GÁRGAR.

Resolución de problemas.


Álvaro.

9. Álvaro compra 72 cromos y los reparte entre sus 8 compañeros y compañeras de clase para jugar en el recreo. ¿Cuántos cromos regala Álvaro a cada uno de sus compañeros de clase?

TOTAL CROMOS=

REPARTE SUS COMPAÑEROS:

**RESULTADO = Álvaro reparte.....
cromos a cada uno de sus
compañeros y compañeras de
clase.**



COLEGIO
VIRGEN DE GRACIA, GÁRGAR.